



प्रश्न पुस्तिका / QUESTION BOOKLET

विषय / Subject : **Economics**
Paper-II

कोड / Code : **51**

5100061

पुस्तिका में पृष्ठों की संख्या /
Number of Pages in Booklet : 64

पुस्तिका में प्रश्नों की संख्या /
Number of Questions in Booklet : 150

51 Economics
विषय कोड **A** बुकलेट
सीरीज

समय / Time : 3.00 घंटे / Hours

पूर्णांक / Maximum Marks : 300

: INSTRUCTIONS :

1. Answer all questions.
2. All questions carry equal marks.
3. Only one answer is to be given for each question.
4. If more than one answers are marked, it would be treated as wrong answer.
5. Each question has four alternative responses marked serially as 1, 2, 3, 4. You have to darken only one circle or bubble indicating the correct answer on the Answer Sheet using BLUE BALL POINT PEN.
6. 1/3 part of the mark(s) of each question will be deducted for each wrong answer. (A wrong answer means an incorrect answer or more than one answers for any question. Leaving all the relevant circles or bubbles of any question blank will not be considered as wrong answer.)
7. The candidate should ensure that Series Code of the Question Paper Booklet and Answer Sheet must be same after opening the envelopes. In case they are different, a candidate must obtain another question paper of the same series. Candidate himself shall be responsible for ensuring this.
8. Mobile Phone or any other electronic gadget in the examination hall is strictly prohibited. A candidate found with any of such objectionable material with him/her will be strictly dealt as per rules.
9. Please correctly fill your Roll Number in O.M.R. Sheet. 5 marks will be deducted for filling wrong or incomplete Roll Number.
10. If there is any sort of ambiguity/mistake either of printing or factual nature then out of Hindi and English Version of the question, the English Version will be treated as standard.

Warning : If a candidate is found copying or if any unauthorised material is found in his/her possession, F.I.R. would be lodged against him/her in the Police Station and he/she would liable to be prosecuted under Section 3 of the R.P.E. (Prevention of Unfairmeans) Act, 1992. Commission may also debar him/her permanently from all future examinations of the Commission.

EA51

: निर्देश :

1. सभी प्रश्नों के उत्तर दीजिए।
2. सभी प्रश्नों के अंक समान हैं।
3. प्रत्येक प्रश्न का केवल एक ही उत्तर दीजिए।
4. एक से अधिक उत्तर देने की दशा में प्रश्न के उत्तर को गलत माना जाएगा।
5. प्रत्येक प्रश्न के चार वैकल्पिक उत्तर दिये गये हैं, जिन्हें क्रमशः 1, 2, 3, 4 अंकित किया गया है। अभ्यर्थी को सही उत्तर निर्दिष्ट करते हुए उन्में से केवल एक गोले अथवा बबल को उत्तर-पत्रक पर नीले बॉल प्वाइंट पेन से गहरा करना है।
6. प्रत्येक गलत उत्तर के लिए प्रश्न अंक का 1/3 भाग काटा जायेगा। गलत उत्तर से तात्पर्य अशुद्ध उत्तर अथवा किसी भी प्रश्न के एक से अधिक उत्तर से है। किसी भी प्रश्न से संबंधित गोले या बबल को खाली छोड़ना गलत उत्तर नहीं माना जायेगा।
7. प्रश्न-पत्र पुस्तिका एवं उत्तर पत्रक के लिफाफे की सील खोलने पर परीक्षार्थी यह सुनिश्चित कर लें कि उसके प्रश्न-पत्र पुस्तिका पर वही सीरीज अंकित है जो उत्तर पत्रक पर अंकित है। इसमें कोई भिन्नता हो तो वीक्षक से प्रश्न-पत्र की ही सीरीज वाला दूसरा प्रश्न-पत्र का लिफाफा प्राप्त कर लें। ऐसा न करने पर जिम्मेदारी अभ्यर्थी की होगी।
8. मोबाईल फोन अथवा इलेक्ट्रॉनिक यंत्र का परीक्षा हॉल में प्रयोग पूर्णतया वर्जित है। यदि किसी अभ्यर्थी के पास ऐसी कोई वर्जित सामग्री मिलती है तो उसके विरुद्ध आयोग द्वारा नियमानुसार कार्यवाही की जायेगी।
9. कृपया अपना रोल नम्बर ओ.एम.आर. पत्रक पर सावधानी पूर्वक सही भरें। गलत अथवा अपूर्ण रोल नम्बर भरने पर 5 अंक कुल प्राप्तांकों में से अनिवार्य रूप से काटे जाएंगे।
10. यदि किसी प्रश्न में किसी प्रकार की कोई मुद्रण या तथ्यात्मक प्रकार की त्रुटि हो तो प्रश्न के हिन्दी तथा अंग्रेजी रूपान्तरों में से अंग्रेजी रूपान्तर मान्य होगा।

चेतावनी : अगर कोई अभ्यर्थी नकल करते पकड़ा जाता है या उसके पास से कोई अनधिकृत सामग्री पाई जाती है, उस अभ्यर्थी के विरुद्ध पुलिस में प्राथमिकी दर्ज कराई जायेगी और आर. पी. ई. (अनुचित साधनों की रोकथाम) अधिनियम, 1992 के नियम 3 के तहत कार्यवाही की जायेगी। साथ ही आयोग ऐसे अभ्यर्थी को भविष्य में होने वाली आयोग की समस्त परीक्षाओं से विवर्जित कर सकता है।



1 Which of the following is not a central problem of an economy ?

- (1) What to produce ? (2) How to produce ?
(3) Where to produce ? (4) For whom to produce ?

एक अर्थव्यवस्था की निम्नलिखित में से कौन-सी केन्द्रीय समस्या नहीं है ?

- (1) क्या उत्पादन किया जाए ? (2) कैसे उत्पादन किया जाए ?
(3) कहाँ उत्पादन किया जाए ? (4) किसके लिए उत्पादन किया जाए ?

2 An upward shift of the production possibility curve indicates :

- (1) Inflation
(2) Employment level beyond full employment
(3) Over production
(4) Economic growth

उत्पादन सम्भावना वक्र का ऊपर की ओर विवर्तन दर्शाता है -

- (1) मुद्रा स्फीति
(2) पूर्ण रोजगार से अधिक रोजगार स्तर
(3) अति उत्पादन
(4) आर्थिक संवृद्धि

3 At the saturation point for commodity X, the marginal utility of X is -

- (1) positive (2) negative
(3) zero (4) maximum

X वस्तु के लिए पूर्ण संतुष्टि के बिन्दु पर, X वस्तु की सीमान्त उपयोगिता होगी-

- (1) धनात्मक (2) ऋणात्मक
(3) शून्य (4) अधिकतम

EA51_A]

2

[Contd...

EA51_A]



4 If a consumer is below the budget line, this implies that he -

- (1) is not spending his full income
- (2) is spending his full income
- (3) may or may not be spending his full income
- (4) is in equilibrium

यदि उपभोक्ता बजट रेखा के नीचे होता है तो इसका तात्पर्य है कि वह -

- (1) अपनी पूरी आय को खर्च नहीं कर रहा है।
- (2) अपनी पूरी आय को खर्च कर रहा है।
- (3) अपनी पूरी आय को खर्च कर रहा, हो सकता है अथवा नहीं भी।
- (4) साम्य में है।

5 While drawing an individual's demand curve for a commodity, which one of the following is not kept constant ?

- (1) Individual's money income
- (2) Prices of other commodities
- (3) Price of the commodity under consideration
- (4) Tastes of the individual

किसी वस्तु के लिए एक व्यक्ति का माँग वक्र खींचने के लिए, निम्न में से किस एक को स्थिर नहीं रखा जाता ?

- (1) व्यक्ति की मौद्रिक आय
- (2) अन्य वस्तुओं की कीमतें
- (3) विचारणीय वस्तु की कीमत
- (4) व्यक्ति की रुचियाँ

6 When the demand curve is vertical, it represents -

- (1) Unitary elastic demand
- (2) Perfectly elastic demand
- (3) Relatively elastic demand
- (4) Perfectly inelastic demand

जब माँग वक्र उर्ध्व होता है तो इसका तात्पर्य है -

- (1) इकाई के बराबर माँग की लोच
- (2) पूर्णतया लोचदार माँग
- (3) सापेक्षतया लोचदार माँग
- (4) पूर्णतया बेलोचदार माँग

7 When the law of diminishing returns begins to operate, the total variable cost (TVC) curve begins to -

- (1) fall at an increasing rate
- (2) rise at a decreasing rate
- (3) fall at a decreasing rate
- (4) rise at an increasing rate

जब क्रमागत उत्पत्ति हास नियम लागू होने लगता है, तो कुल परिवर्तनशील लागत (TVC) वक्र में होने लगती है -

- (1) बढ़ती दर से गिरावट
- (2) घटती दर से वृद्धि
- (3) घटती दर पर गिरावट
- (4) बढ़ती दर से वृद्धि

EA51_A]

8 Under perfect competition, the demand curve for a firm

- (1) slopes upward to the left
- (2) is parallel to x axis
- (3) slopes downward to the right
- (4) slopes upward to the right

पूर्ण प्रतियोगिता के अन्तर्गत, फर्म के माँग वक्र का ढाल होता है -

- (1) बायीं ओर उठा हुआ
- (2) क्षैतिज अक्ष के समानान्तर
- (3) दायीं ओर गिरता हुआ
- (4) दायीं ओर उठा हुआ

9 Optimum level of output for a perfectly competitive firm is given by the point where :

- (1) MR equals AC
- (2) MR equal MC
- (3) MR exceeds MC
- (4) MR equals MC and MC is rising

पूर्ण प्रतियोगी फर्म के लिए उत्पादन का अनुकूलतम बिन्दू उस स्थान पर होगा जहाँ पर -

- (1) MR बराबर होती है AC के
- (2) MR बराबर होती है MC के
- (3) MR अधिक होती है MC से
- (4) MR बराबर होती है MC के तथा MC बढ़ती हुई होती है।

10 "Economics is on the one side, a study of wealth and on the other and more important side, a part of the study of man." Who is the writer of the statement ?

- (1) Pigou (2) Adam Smith
(3) Marshall (4) Robbins

“अर्थशास्त्र एक ओर धन का अध्ययन है और दूसरी ओर जो कि अधिक महत्वपूर्ण है, यह मनुष्य के अध्ययन का एक भाग है।” इस कथन का लेखक कौन है ?

- (1) पीगू (2) एडम स्मिथ
(3) मार्शल (4) रोबिन्स

11 Which of the following statement is correct ?

- (1) Indifference curves are concave to the origin.
(2) Indifference curve cannot be a straight line except when goods are perfect substitutes.
(3) Indifference curves can intersect each other.
(4) Indifference curves have positive slope.

निम्नलिखित में से कौनसा कथन सही है ?

- (1) तटस्थता वक्र मूल बिन्दु के नतीवर् होते हैं।
(2) वस्तुओं के पूर्ण स्थानापन्न होने की स्थिति के अलावा, तटस्थता वक्र की आकृति एक सरल रेखा की नहीं हो सकती।
(3) तटस्थता वक्र आपस में एक दूसरे को काट सकते हैं।
(4) तटस्थता वक्रों का ढाल धनात्मक होता है।

12 A fall in the price of a commodity, holding everything else constant, results in and is referred to as -

- (1) An increase in the quantity demanded
- (2) A decrease in the quantity demanded
- (3) An increase in demand
- (4) A decrease in demand

अन्य सभी बातें स्थिर रहने पर, किसी वस्तु की कीमत गिरने पर जो परिणाम होता है, उसे कहा जाता है -

- (1) माँगी गई मात्रा में वृद्धि
- (2) माँगी गई मात्रा में कमी
- (3) माँग में वृद्धि
- (4) माँग में कमी

13 "Giffin Goods" are a notable exception to the -

- (1) Law of diminishing marginal utility
- (2) Law of diminishing returns
- (3) Law of demand
- (4) Law of supply

“गिफिन वस्तुएँ” निम्न में से किस नियम का उल्लेखनीय अपवाद होती हैं ?

- (1) हासमान सीमान्त उपयोगिता नियम
- (2) हासमान प्रतिफल का नियम
- (3) माँग का नियम
- (4) पूर्ति का नियम

14 In response to a change in the price of a commodity, if the quantity demanded remain unchanged, the coefficient of price elasticity of demand will be equal to -

- (1) zero (2) one
(3) greater than one (4) less than one

यदि वस्तु की कीमत बदलने पर, उसकी माँगी गई मात्रा अपरिवर्तित रहे तो कीमत लोच का गुणांक होगा -

- (1) शून्य (2) इकाई के बराबर
(3) इकाई से अधिक (4) इकाई से कम

15 Which of the following statement is not correct ?

- (1) The functional relationship between physical inputs and physical output of a firm is known as production function.
(2) The law of variable proportions relates to short run.
(3) Returns to scale relates to long run.
(4) Prices of factors enter into the production function.

निम्नलिखित में से कौनसा कथन सही नहीं है?

- (1) एक फर्म के भौतिक साधनों एवं भौतिक उत्पादन के मध्य फलनात्मक सम्बन्ध को उत्पादन फलन कहा जाता है।
(2) परिवर्तनशील अनुपातों के नियम का सम्बन्ध अल्पकाल से है।
(3) पैमाने के प्रतिफल का सम्बन्ध दीर्घकाल से है।
(4) उत्पादन फलन में साधनों की कीमतों का प्रवेश होता है।

16 Which cost curve is horizontal straight line parallel to x-axis ?

- (1) Total cost (2) Total fixed cost
 (3) Total variable cost (4) Average fixed cost

कौनसा लागत वक्र x अक्ष के समानान्तर क्षैतिज सरल रेखा की आकृति का होता है ?

- (1) कुल लागत (2) कुल स्थिर लागत
 (3) कुल परिवर्तनशील लागत (4) औसत स्थिर लागत

17 In short run, total fixed cost is equal to total cost when -

- (1) Output is zero (2) Output is increasing
 (3) Output is maximum (4) Output is decreasing

अल्पकाल में, कुल स्थिर लागत एवं कुल लागत बराबर होते हैं, जब -

- (1) उत्पादन शून्य है। (2) उत्पादन बढ़ रहा है।
 (3) उत्पादन अधिकतम है। (4) उत्पादन घट रहा है।

18 Marginal cost can be calculated from -

- (1) Average fixed cost (2) Total fixed cost
 (3) Total variable cost (4) Overhead expenditure

सीमान्त लागत की गणना की जा सकती है -

- (1) औसत स्थिर लागत के द्वारा (2) कुल स्थिर लागत के द्वारा
 (3) कुल परिवर्तनशील लागत के द्वारा (4) ऊपरी व्यय के द्वारा

19 Which of the following is not 'U' shaped curve ?

- (1) AVC curve (2) AFC curve
(3) AC curve (4) MC curve

निम्नलिखित में से कौनसा चक्र 'U' आकृति का नहीं होता ?

- (1) AVC चक्र (2) AFC चक्र
(3) AC चक्र (4) MC चक्र

20 In a perfectly competitive market, an individual firm faces such a demand curve, where -

- (1) marginal revenue is greater than average revenue
(2) marginal revenue is less than average revenue
(3) marginal revenue is equal to average revenue
(4) marginal revenue is zero

पूर्ण प्रतिस्पर्धी बाजार में, एक वैयक्तिक फर्म इस प्रकार के माँग चक्र का सामना करती है जहाँ -

- (1) औसत आय से सीमान्त आय अधिक है।
(2) औसत आय से सीमान्त आय कम है।
(3) औसत आय एवं सीमान्त आय बराबर है।
(4) सीमान्त आय शून्य है।

21 Which of the following is the condition for equilibrium in the short run for a firm operating under perfect competition ?

- (1) $MC = MR = AR$ and MC is rising
- (2) $AC = AR = AVC$ and AC is rising
- (3) $MR = AC = AR$ and AC is rising
- (4) $MC = AC = AVC$ and MC is rising

पूर्ण प्रतियोगिता के अन्तर्गत कार्यशील एक फर्म के अल्पकालीन सन्तुलन की शर्त निम्न में से कौनसी है ?

- (1) $MC = MR = AR$ एवं MC बढ़ रही है।
- (2) $AC = AR = AVC$ एवं AC बढ़ रही है।
- (3) $MR = AC = AR$ एवं AC बढ़ रही है।
- (4) $MC = AC = AVC$ एवं MC बढ़ रही है।

22 In which economic system do we find "Consumers' sovereignty" ?

- (1) Capitalism
- (2) Socialism
- (3) Mixed Economy
- (4) Communism

किस आर्थिक प्रणाली में "उपभोक्ता की सार्वभौमिता" पाई जाती है ?

- (1) पूँजीवाद
- (2) समाजवाद
- (3) मिश्रित अर्थव्यवस्था
- (4) साम्यवाद

23 In which form of market organization, the firm is also the industry ?

- (1) Perfect competition (2) Monopoly
(3) Monopolistic competition (4) Oligopoly

बाजार संगठन के किस स्वरूप में फर्म ही उद्योग भी है ?

- (1) पूर्ण प्रतियोगिता (2) एकाधिकार
(3) एकाधिकारात्मक प्रतियोगिता (4) अल्पाधिकार

24 At the shutdown point -

- (1) $P = AFC$ (2) $P = AVC$
(3) $TR = TC$ (4) $TR = TFC$

उत्पादन बन्द बिन्दू पर -

- (1) $P = AFC$ (2) $P = AVC$
(3) $TR = TC$ (4) $TR = TFC$

25 When total utility is maximum, marginal utility is -

- (1) positive (2) negative
(3) zero (4) maximum

जब कुल उपयोगिता अधिकतम होती है, तो सीमान्त उपयोगिता होती है -

- (1) धनात्मक (2) ऋणात्मक
(3) शून्य (4) अधिकतम

26 The law of equi-marginal utility states that :

- (1) Total utility of different commodities to a person tends to be equal.
- (2) Marginal utility of different commodities to a person tends to be equal.
- (3) Average utility of different commodities to a person tends to be equal.
- (4) Total expenditure on different commodities is equal.

सम-सीमान्त उपयोगिता नियम बताता है, कि -

- (1) व्यक्ति के लिए विभिन्न वस्तुओं से प्राप्त होने वाली कुल उपयोगिता बराबर होने की प्रवृत्ति रखती है।
- (2) व्यक्ति के लिए विभिन्न वस्तुओं से प्राप्त होने वाली सीमान्त उपयोगिता बराबर होने की प्रवृत्ति रखती है।
- (3) व्यक्ति के लिए विभिन्न वस्तुओं से प्राप्त होने वाली औसत उपयोगिता बराबर होने की प्रवृत्ति रखती है।
- (4) विभिन्न वस्तुओं पर होने वाला कुल व्यय बराबर होता है।

27 Total area under the demand curve of a commodity measures -

- | | |
|----------------------|------------------------|
| (1) Marginal utility | (2) Average utility |
| (3) Total utility | (4) Consumer's surplus |

किसी वस्तु के माँग वक्र के नीचे का कुल क्षेत्रफल मापता है -

- | | |
|----------------------|---------------------|
| (1) सीमान्त उपयोगिता | (2) औसत उपयोगिता |
| (3) कुल उपयोगिता | (4) उपभोक्ता की बचत |

28 When price elasticity of demand is greater than unity, MR is -

- (1) equal to one (2) positive
(3) negative (4) zero

जब माँग की कीमत लोच इकाई से अधिक होती है, तो MR होगा -

- (1) इकाई के बराबर (2) धनात्मक
(3) ऋणात्मक (4) शून्य

29 Average revenue curve is also known as -

- (1) Indifference curve (2) Production possibility curve
(3) Demand curve (4) Supply curve

औसत आगम वक्र को निम्न में से किस अन्य नाम से जाना जाता है?

- (1) तटस्थता वक्र (2) उत्पादन सम्भावना वक्र
(3) माँग वक्र (4) पूर्ति वक्र

30 In the case of Giffin Good, the demand curve will be -

- (1) horizontal
(2) vertical
(3) downward sloping to the right
(4) upward sloping to the right

गिफिन वस्तुओं के सन्दर्भ में, माँग वक्र होगा -

- (1) क्षैतिजीय
(2) लम्बवत
(3) दायीं ओर नीचे गिरता हुआ
(4) दायीं ओर ऊपर बढ़ता हुआ

31 Domestic product at "Market Price" includes impact of subsidies and indirect taxes whereas 'Domestic product at factor cost' is free from the impact of subsidies and indirect taxes." This statement is -

- (1) Never true (2) Always true
(3) Often true (4) Sometimes true

“बाजार कीमतों पर घरेलू उत्पादन की गणना में अनुदान एवं अप्रत्यक्ष करों का प्रभाव सम्मिलित रहता है, जब कि साधन लागत पर घरेलू उत्पादन की गणना अनुदान एवं अप्रत्यक्ष करों के प्रभाव से स्वतन्त्र होती है।” यह कथन -

- (1) कभी भी सही नहीं है। (2) सदैव सही है।
(3) प्रायः सही है। (4) कभी कभी सही है।

32 Disposable personal income is equal to :

- (1) Personal income (-) personal direct taxes
(2) Net National product (-) personal income
(3) Net National product (-) personal income (+) transfer payments
(4) Net National product (-) personal income (-) depreciation

खर्च योग्य वैयक्तिक आय बराबर होती है :

- (1) वैयक्तिक आय (-) वैयक्तिक प्रत्यक्ष कर
(2) शुद्ध राष्ट्रीय उत्पाद (-) वैयक्तिक आय
(3) शुद्ध राष्ट्रीय उत्पाद (-) वैयक्तिक आय (+) हस्तान्तरण भुगतान
(4) शुद्ध राष्ट्रीय उत्पाद (-) वैयक्तिक आय (-) मूल्य हास

33 There is an increase in real national income, when -

- (1) Prices of essential goods increase
- (2) Savings of the people increase
- (3) Supply of money in the economy increases
- (4) Total production in the economy increases

वास्तविक राष्ट्रीय आय में वृद्धि होती है, जब -

- (1) आवश्यक वस्तुओं की कीमतें बढ़ जाती है।
- (2) लोगों की बचतें बढ़ जाती है।
- (3) अर्थव्यवस्था में मुद्रा की पूर्ति बढ़ जाती है।
- (4) अर्थव्यवस्था में कुल उत्पादन बढ़ जाता है।

34 Circular flow of income for a two sector model shows :

- (1) flow of income between household and business sectors.
- (2) amount of money held by household and business sectors.
- (3) amount of wealth held by household and business sectors.
- (4) savings made by household and business sectors.

द्वि क्षेत्रीय मॉडल में आय का चक्रीय प्रवाह प्रदर्शित करता है -

- (1) घरेलू तथा व्यावसायिक क्षेत्रों के बीच आय का प्रवाह
- (2) घरेलू तथा व्यावसायिक क्षेत्रों द्वारा रखी गई मुद्रा की मात्रा
- (3) घरेलू तथा व्यावसायिक क्षेत्रों द्वारा रखी गई धन की मात्रा
- (4) घरेलू तथा व्यावसायिक क्षेत्रों द्वारा की गई बचतें।

35 Who advocated that 'Bad money drives good money out of circulation ?

- (1) Marshall
- (2) Gresham
- (3) Keynes
- (4) Friedman

किसने प्रतिपादित किया कि "खराब मुद्रा अच्छी मुद्रा को चलन से बाहर कर देती है?"

- (1) मार्शल
- (2) ग्रेशम
- (3) कीन्स
- (4) फ्रीडमैन

36 Which of the following is not a function of commercial bank ?

- (1) acceptance of deposits
- (2) granting of loans
- (3) discounting of bills of exchange
- (4) issuing of currency notes

निम्नलिखित में से कौनसा वाणिज्यिक बैंक का कार्य नहीं है?

- (1) जमा स्वीकार करना
- (2) ऋण प्रदान करना
- (3) विनिमय विपत्रों की कटौती करना
- (4) करेंसी नोट जारी करना

37 Credit creation leads to -

- (1) increase the real wealth of the country.
- (2) raise the real national income.
- (3) increase the supply of money.
- (4) decrease outstanding loans.

साख निर्माण -

- (1) देश की वास्तविक सम्पत्ति को बढ़ाता है।
- (2) वास्तविक राष्ट्रीय आय में वृद्धि करता है।
- (3) मुद्रा की पूर्ति बढ़ाता है।
- (4) बकाया ऋणों को कम करता है।

38 Which of the following is not an example of quantitative methods of credit control ?

- (1) Bank rate policy (2) Open market operations
(3) Variable reserve ratio (4) Margin requirements

निम्न में से कौनसा साख नियन्त्रण का मात्रात्मक तरीका नहीं है ?

- (1) बैंक दर नीति (2) खुले बाजार की क्रियायें
(3) परिवर्तनशील कोषानुपात (4) मार्जिन का निर्धारण

39 In the Government budget, interest payment is an item of -

- (1) Revenue expenditure (2) Capital expenditure
(3) Plan expenditure (4) Developmental expenditure

सरकार के बजट में, ब्याज की अदायगी मद है -

- (1) राजस्व व्यय का (2) पूँजीगत व्यय का
(3) योजना व्यय का (4) विकासात्मक व्यय का

40 Devaluation can be effective tool for correcting disequilibrium in balance of payment only if :

- (1) Elasticity of demand for imports is greater than one.
(2) Elasticity of demand for exports is greater than one.
(3) Sum of elasticity of demand for import and export is greater than one.
(4) Elasticity of demand for exports is less than one.

अवमूल्यन भुगतान संतुलन में असंतुलन को दूर करने का एक प्रभावशाली उपकरण हो सकता है, यदि -

- (1) आयातों की माँग की लोच इकाई से अधिक हो।
(2) निर्यातों की माँग की लोच इकाई से अधिक हो।
(3) आयातों एवं निर्यातों की माँग की लोच का योग इकाई से अधिक हो।
(4) निर्यातों की माँग की लोच इकाई से कम हो।

41 Chairman of 13th finance commission is :

- (1) Vijay Kelkar (2) C. Rangrajan
(3) Montek Singh Ahluwalia (4) Bimal Jalan

13वें वित्त आयोग के अध्यक्ष है :

- (1) विजय केलकर (2) सी. रंगराजन
(3) मोन्टेक सिंह अहलूवालिया (4) विमल जालान

42 The best way to achieve economic growth is to -

- (1) reduce taxes (2) save more
(3) spend more (4) consume more

आर्थिक वृद्धि प्राप्त करने का सर्वोत्तम रास्ता है -

- (1) करों में कमी (2) बचतों में वृद्धि
(3) व्यय में वृद्धि (4) उपभोग में वृद्धि

43 Which of the following is not a component of money supply ?

- (1) currency held by the public
(2) demand deposits of the public with commercial banks
(3) time deposits of the public with commercial banks
(4) stock of money held by the Government and banks

निम्न में से कौन-सा मुद्रा पूर्ति का भाग नहीं है ?

- (1) जनता के पास रखी हुई करेन्सी
(2) व्यापारिक बैंकों के पास रखी हुई जनता की माँग जमायें
(3) व्यापारिक बैंकों के पास रखी हुई जनता की सावधि जमायें
(4) सरकार एवं बैंकों के पास रखा हुआ मुद्रा का स्टॉक

44 Which of the following is not a component of balance of payment account ?

- (1) Trade balance (2) Current account balance
(3) Revenue account balance (4) Capital account balance

निम्नलिखित में से कौन-सा भाग भुगतान संतुलन के खाते में सम्मिलित नहीं होता है ?

- (1) व्यापार संतुलन (2) चालू खाते का संतुलन
(3) राजस्व खाते का संतुलन (4) पूँजी खाते का संतुलन

45 Currently poverty estimates in India are based on -

- (1) Lakdawala methodology (2) Tendulkar methodology
(3) Rangarajan methodology (4) UNDP methodology

वर्तमान में भारत में गरीबी के अनुमान आधारित है -

- (1) लकडावाला प्रणाली पर (2) तेंदुलकर प्रणाली पर
(3) रंगराजन प्रणाली पर (4) यू. एन. डी. पी. प्रणाली पर

46 In which category Rajasthan state has been included by Raghuram Rajan Committee (2013), which was constituted to consider backwardness of the states for evolving a composite development index of states ?

- (1) Least developed states (2) Less developed states
(3) Relatively developed states (4) Special category states

रघुराम राजन समिति (2013), जिसका गठन राज्यों के पिछड़ेपन के बाबत एक समग्र विकास सूचकांक का निर्माण करने के लिये किया गया था, ने राजस्थान राज्य को निम्न में से किस श्रेणी में सम्मिलित किया है ?

- (1) सबसे कम विकसित राज्य (2) कम विकसित राज्य
(3) अपेक्षाकृत विकसित राज्य (4) विशेष श्रेणी के राज्य

EA51_A]

47 The primary and unique function of money is -

- (1) the standard of deferred payments
- (2) a store of value
- (3) a medium of exchange
- (4) a medium of transfer of value

मुद्रा का प्राथमिक एवं विशिष्ट कार्य है -

- (1) अस्थगित भुगतानों का मान
- (2) मूल्य का संचय
- (3) विनिमय का माध्यम
- (4) मूल्य के हस्तान्तरण का माध्यम

48 Which one of the following can be regarded as the best available criterion to measure economic development for developing countries ?

- (1) Economic welfare criterion
- (2) Standard of living criterion
- (3) National income criterion
- (4) Per capita real income criterion

विकासशील देशों में आर्थिक विकास को मापने के लिये निम्नलिखित में से किसे एक श्रेष्ठ उपलब्ध मानदण्ड माना जा सकता है ?

- (1) आर्थिक कल्याण मानदण्ड
- (2) जीवन स्तर मानदण्ड
- (3) राष्ट्रीय आय मानदण्ड
- (4) प्रति व्यक्ति वास्तविक आय मानदण्ड

49 The National Development Council in its meeting in December 2012 has finally accepted the annual growth rate target for the XIIth five year plan at -

- (1) 8.5%
- (2) 8%
- (3) 9%
- (4) 9.2%

राष्ट्रीय विकास परिषद ने दिसम्बर 2012 की बैठक में 12वीं पंचवर्षीय योजना के लिये वार्षिक वृद्धि दर के लक्ष्य को अन्तिम रूप से कितना स्वीकार किया है ?

- (1) 8.5%
- (2) 8%
- (3) 9%
- (4) 9.2%

50 Which of the following is a statutory body ?

- (1) Planning Commission
- (2) Finance Commission
- (3) National Development Council
- (4) Planning Commission Committee

निम्नलिखित में से कौन-सा निकाय सांविधिक निकाय है ?

- (1) योजना आयोग
- (2) वित्त आयोग
- (3) राष्ट्रीय विकास परिषद
- (4) योजना आयोग समिति

51 Which of the following is not a main objective of food management in India ?

- (1) Procurement of food grains
- (2) Distribution of food grains
- (3) Maintenance of food buffers
- (4) Export of food grains

निम्नलिखित में से कौनसा उद्देश्य भारत में खाद्यान्न प्रबन्धन का प्रमुख उद्देश्य नहीं है ?

- (1) खाद्यान्नों की वसूली
- (2) खाद्यान्नों का वितरण
- (3) खाद्य बफर - स्टॉक को बनाये रखना
- (4) खाद्यान्नों का निर्यात

52 Which of the following public sector enterprise does not have 'Maharatna' status as on December 2013 ?

- (1) Bharat Petroleum Corporation Ltd.
- (2) Bharat Heavy Electricals Ltd.
- (3) Coal India Ltd.
- (4) Oil and Natural Gas Corporation Ltd.

निम्नलिखित में से किस सार्वजनिक क्षेत्र के उद्यम के पास 'महारत्न' का दर्जा नहीं है (दिसम्बर 2013 तक) ?

- (1) भारत पेट्रोलियम निगम लिमिटेड
- (2) भारत हेवी इलेक्ट्रिकल्स लिमिटेड
- (3) कोल इण्डिया लिमिटेड
- (4) ऑयल एण्ड नेचरल गैस कॉर्पोरेशन लिमिटेड

53 Given following figures :

1, 2, 5, 10, 100

Which of the following is the best measure of central tendency ?

- | | |
|--------------------|---------------------|
| (1) Geometric mean | (2) Arithmetic mean |
| (3) Median | (4) Mode |

निम्नलिखित आँकड़ों दिये हाने पर -

1, 2, 5, 10, 100

निम्न में से कौनसा केन्द्रीय प्रवृत्ति का सबसे अच्छा माप है ?

- | | |
|---------------------|-------------------|
| (1) ज्यामितीय माध्य | (2) समान्तर माध्य |
| (3) मध्यिका | (4) बहुलक |

54 If the arithmetic mean of the series, 2, 5, X, 7 is 4, the value of X will be -

- (1) 2 (2) 3
(3) -3 (4) 6

यदि श्रेणी, 2, 5, X, 7 का समान्तर माध्य 4 है, तो X का मान होगा -

- (1) 2 (2) 3
(3) -3 (4) 6

55 Which of the following is a measure of central tendency ?

- (1) Standard deviation (2) Mean deviation
(3) Correlation (4) Harmonic mean

निम्नलिखित में से कौनसा केन्द्रीय प्रवृत्ति का एक माप है ?


- (1) प्रमाप विचलन (2) माध्य विचलन
(3) सहसम्बन्ध (4) हरात्मक माध्य

56 In choices involving risk, the consumer maximizes -

- (1) Total utility (2) Marginal utility
(3) Expected utility (4) All of the above

जोखिम वाली स्थितियों के चुनाव में, उपभोक्ता निम्न में से किसे अधिकतम करता है ?

- (1) कुल उपयोगिता (2) सीमान्त उपयोगिता
(3) प्रत्याशित उपयोगिता (4) उपरोक्त सभी



57 The basic economic problem is related to -

- (1) Consumer's choice
- (2) Decision making by the Government
- (3) Multiplicity of wants and scarcity of resources
- (4) Poverty of the masses

आधारभूत आर्थिक समस्या निम्न से सम्बद्ध होती है -

- (1) उपभोक्ता चयन से
- (2) सरकार द्वारा निर्णय लेने से
- (3) आवश्यकताओं की बहुलता तथा संसाधनों की कमी से
- (4) बहुसंख्यकों की गरीबी से

58 When a price of Giffin good falls -

- (1) negative income effect is weaker than the positive substitution effect.
- (2) negative income effect is more powerful than the positive substitution effect.
- (3) negative income effect and positive substitution effects are equal.
- (4) both income and substitution effects are negative.

जब एक 'गिफिन वस्तु' की कीमत गिरती है, तब -

- (1) ऋणात्मक आय प्रभाव धनात्मक प्रतिस्थापन प्रभाव से कमजोर होता है।
- (2) ऋणात्मक आय प्रभाव धनात्मक प्रतिस्थापन प्रभाव से अधिक शक्तिशाली होता है।
- (3) ऋणात्मक आय प्रभाव तथा धनात्मक प्रतिस्थापन प्रभाव बराबर होते हैं।
- (4) आय तथा प्रतिस्थापन प्रभाव दोनों ही ऋणात्मक होते हैं।

59 The Scientific method can best be defined in economics as :

- (1) Use of computer in testing
- (2) Performing experiments in laboratories
- (3) Finding evidence to support theories
- (4) Systematic collection, classification and analysis of collected data

अर्थशास्त्र में वैज्ञानिक पद्धति की श्रेष्ठ परिभाषा हो सकती है -

- (1) परीक्षण हेतु कम्प्यूटर का प्रयोग
- (2) प्रयोगशालाओं में परीक्षण
- (3) सिद्धान्त की सत्यता प्रमाणित करने हेतु प्रमाण जुटाना
- (4) वैज्ञानिक तरीके से संकलन, वर्गीकरण व निर्वचन कर आँकड़ें इकट्ठे करना।

60 In a free market economy, the central problems are solved through ?

- (1) Price system
- (2) Command system
- (3) National income system
- (4) Fiscal system

एक स्वतंत्र बाजार व्यवस्था में केन्द्रीय आर्थिक समस्याओं का समाधान किसके द्वारा होता है ?

- (1) कीमत प्रणाली के द्वारा
- (2) आदेश प्रणाली के द्वारा
- (3) राष्ट्रीय आय प्रणाली के द्वारा
- (4) राजकोषीय प्रणाली के द्वारा

61 In case of an interior good, the income elasticity of demand is -

- | | |
|--------------|--------------|
| (1) Positive | (2) Zero |
| (3) Negative | (4) Infinite |

निम्न कोटि की वस्तुओं के सम्बन्ध में माँग की आय लोच होती है -

- | | |
|-------------|-----------|
| (1) धनात्मक | (2) शून्य |
| (3) ऋणात्मक | (4) अनन्त |

62 The opportunity cost of an item is -

- | | |
|----------------|---------------------------|
| (1) Money paid | (2) Left out alternatives |
| (3) Man power | (4) Financial inputs |

एक वस्तु की अवसर लागत है -

- | | |
|---------------------|-----------------------|
| (1) चुकाई गई मुद्रा | (2) त्यागा गया विकल्प |
| (3) मानव शक्ति | (4) वित्तीय इनपुट |

63 Production possibility curve shows the possible level of output. Provided resources are -

- (1) fully employed
- (2) put in their best use
- (3) Both (1) and (2)
- (4) None of the above

उत्पादन संभावना वक्र संसाधनों के उपयोग द्वारा संभावित उत्पादन का उच्चतम स्तर है। यदि संसाधन -

- (1) पूर्ण रोजगार प्राप्त हो
- (2) उन्हें अपने श्रेष्ठतम उपयोग में रखा गया हो
- (3) उपरोक्त दोनों (1) और (2)
- (4) उपरोक्त में से कोई नहीं

64 The water diamond paradox was solved with the aid of the concept

- (1) Marginal productivity
- (2) Marginal utility
- (3) Marginal revenue
- (4) Marginal social benefit

‘पानी तथा हीरे का विरोधाभास’ का हल निम्न में से किस अवधारणा की सहायता से हुआ ?

- (1) सीमान्त उत्पादकता
- (2) सीमान्त उपयोगिता
- (3) सीमान्त आय
- (4) सीमान्त सामाजिक लाभ

65 The condition of consumers equilibrium in case of two commodities states that the ratio of marginal utilities of two commodities should be equalised to -

- (1) The ratio of total cost of two commodities
- (2) The ratio of prices of two commodities
- (3) The ratio of total utilities of two commodities
- (4) The income of the consumer to be spent on two commodities

दो वस्तुओं की स्थिति में, उपभोक्ता संतुलन की शर्त के अनुसार दो वस्तुओं की सीमान्त उपयोगिताओं का अनुपात निम्न में से किसके समान होना चाहिये?

- (1) दो वस्तुओं की कुल लागत अनुपात के
- (2) दो वस्तुओं की कीमतों के अनुपात के
- (3) दो वस्तुओं की कुल उपयोगिताओं के अनुपात के
- (4) दो वस्तुओं पर खर्च होनेवाली उपभोक्ता की आय के



66 In a production function, returns to scale are measured by -

- (1) $\alpha + \beta$ (2) $\alpha - \beta$
(3) $\alpha \cdot \beta$ (4) α / β

किसी उत्पादन फलन में पैमाने के प्रतिफल का प्रमाण निम्न द्वारा होता है :

- (1) $\alpha + \beta$ (2) $\alpha - \beta$
(3) $\alpha \cdot \beta$ (4) α / β

67 The consumer will attain equilibrium when -

- (1) $\frac{MU_x}{MU_y} > \frac{P_x}{P_y}$ (2) $\frac{MU_x}{MU_y} < \frac{P_x}{P_y}$
(3) $\frac{MU_x}{MU_y} = \frac{P_x}{P_y}$ (4) None of the above

कोई उपभोक्ता साम्य स्थिति वहाँ प्राप्त करेगा जहाँ -

- (1) $\frac{MU_x}{MU_y} > \frac{P_x}{P_y}$ (2) $\frac{MU_x}{MU_y} < \frac{P_x}{P_y}$
(3) $\frac{MU_x}{MU_y} = \frac{P_x}{P_y}$ (4) उपरोक्त में से कोई नहीं

68 Which of the following statement is false ?

- (1) MU curves cuts x axis
- (2) Indifference curves cut each other
- (3) Higher indifference curve shows higher level of satisfaction
- (4) Indifference curve is an improved analysis.

निम्न में से कौनसा कथन असत्य है?

- (1) MU वक्र x अक्ष को काटता है
- (2) उदासीनता वक्र एक दूसरे को काटते हैं
- (3) उच्च उदासीनता वक्र उच्च संतुष्टि स्तर बतलाता है
- (4) उदासीनता वक्र विश्लेषण एक श्रेष्ठतर विश्लेषण है

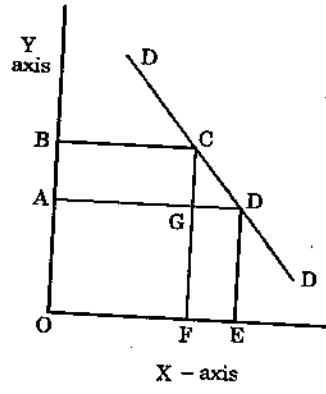
69 The negative relationship between which two variables is called "Okum's Law"?

- (1) Unemployment and real GDP
- (2) Exports and GDP
- (3) Price level and unemployment
- (4) Exchange rate and imports

निम्नलिखित में से किन दो चरों के मध्य ऋणात्मक सम्बन्ध को "ओकुम का नियम" कहा जाता है?

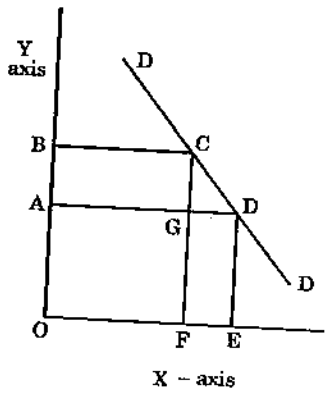
- (1) बेरोजगारी तथा वास्तविक जी डी पी
- (2) निर्यात तथा जी डी पी
- (3) कीमत स्तर तथा बेरोजगारी
- (4) विनिमय दर तथा आयात

70 DD is the demand curve, we measure price on Y axis and quantity on X axis (see figure). When price is B, the total revenue as per figure given will be



- (1) FCDE
- (2) ADEO
- (3) AGFO
- (4) BCFO

DD एक माँग वक्र है। हम Y axis पर कीमत को तथा X axis पर मात्रा लेते हैं। (चित्र देखें) यदि कीमत B है तो चित्र के अनुसार कुल आगम कितना होगा?



- (1) FCDE
- (2) ADEO
- (3) AGFO
- (4) BCFO

71 When a good has no substitutes, the demand curve for that good is

- (1) Vertical to Y axis
- (2) Horizontal to X axis
- (3) Straight line falling from Y axis to X axis
- (4) A curve convex to origin

जब किसी वस्तु की कोई प्रतिस्थापन वस्तु न हो तो उस वस्तु का माँग वक्र होगा—

- (1) Y axis के लम्बवत्
- (2) X axis के लम्बवत्
- (3) Y अक्ष से X अक्ष की ओर गिरती हुई रेखा
- (4) मूल बिन्दु की ओर उन्नतोदर वक्र

72 In India national is estimated by -

- (1) Planning Commission
- (2) Indian Statistical Institute
- (3) Central Statistical Organization
- (4) National Sample Survey Organization

भारत में राष्ट्रीय आय अनुमानित कौन करता है?

- (1) योजना आयोग
- (2) भारतीय सांख्यिकी संस्थान
- (3) केन्द्रीय सांख्यिकी संगठन
- (4) राष्ट्रीय न्यादर्श सर्वेक्षण संगठन

- 73 When the total product falls, then
- (1) The average product of labour is zero
 - (2) The marginal product of labour is zero
 - (3) The marginal product of labour is negative
 - (4) The average product of labour is rising

जब कुल उत्पादन गिरता है, तो

- (1) श्रम का औसत उत्पादन शून्य होता है
- (2) श्रम का सीमान्त उत्पादन शून्य होता है
- (3) श्रम का सीमान्त उत्पादन ऋणात्मक होता है
- (4) श्रम का औसत उत्पादन बढ़ता है

- 74 If a fall in price of a commodity X causes a rise in the quantity demanded for Y commodity, X and Y are :

- (1) Complements
- (2) Normal goods
- (3) Substitutes
- (4) Unrelated goods

यदि किसी वस्तु X की कीमत में कमी के फलस्वरूप वस्तु Y की माँग में वृद्धि होती है तो X तथा Y होंगे :

- (1) पूरक वस्तुएं
- (2) सामान्य वस्तुएं
- (3) स्थानापन्न वस्तुएं
- (4) असम्बद्ध वस्तुएं

75 Total production will be maximum when :

- (1) Marginal product is maximum
- (2) Average product is maximum
- (3) Average product is zero
- (4) Marginal product is zero

कुल उत्पादन तब अधिकतम होगा जब -

- (1) सीमान्त उत्पादन अधिकतम है
- (2) औसत उत्पादन अधिकतम है
- (3) औसत उत्पादन शून्य है
- (4) सीमान्त उत्पादन शून्य है

76 In relation to cost functions, which of the following statements is not true ?

- (1) AFC is rectangular hyperbole
- (2) AC curve is U shaped
- (3) MC curve rises more sharply after attaining its minimum
- (4) MC never cuts AC curve at its minimum level

लागत फलनों के संदर्भ में कौन सा कथन सही नहीं है ?

- (1) AFC आयताकार अधीन्द्र के रूप में है
- (2) AC वक्र U आकार का होता है
- (3) अपने न्यूनतम स्तर पहुँचने के बाद MC तीव्र गति से बढ़ता है
- (4) MC कभी भी AC को इसके न्यूनतम स्तर पर नहीं काटता

77 Which method is being used for estimation of national income in India ?

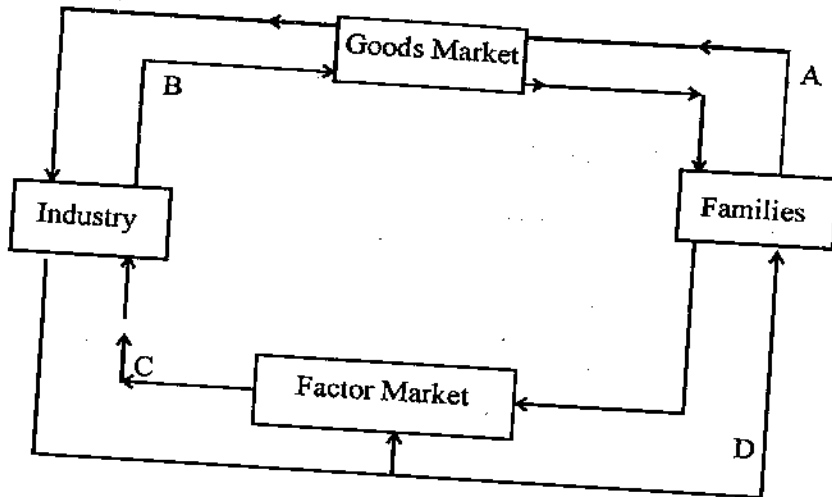
- (1) Production method
- (2) Income method
- (3) Both above
- (4) None of the two

भारत में राष्ट्रीय आय के अनुमान हेतु कौन सी विधि प्रयुक्त की जाती है ?

- (1) उत्पादन गणना विधि
- (2) आय विधि
- (3) उपरोक्त दोनों
- (4) दोनों में कोई नहीं

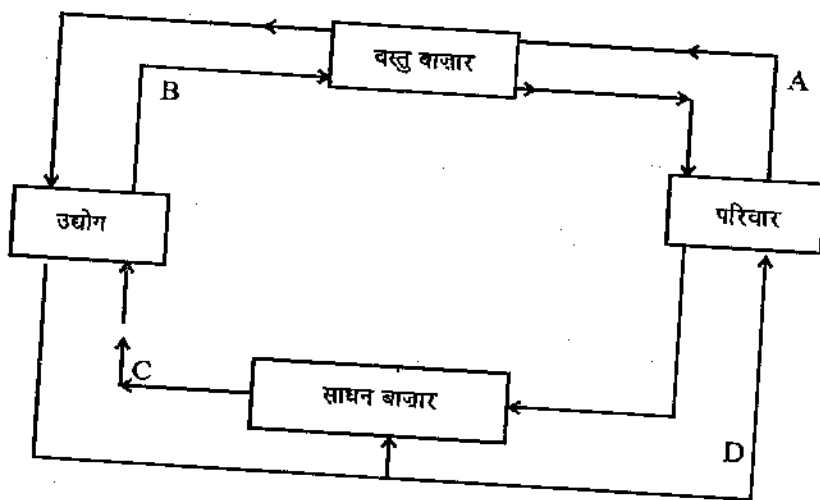
EA51_A]

78 In the circular flow Diagram shown below, which arrow shows the flow of factors of production ?



- (1) A
- (2) B
- (3) C
- (4) D

आय के चक्राकार प्रवाह के निम्न रेखाचित्र में कौन सा तीर उत्पादन के साधनों के प्रवाह को प्रदर्शित करता है ?



- (1) A
- (2) B
- (3) C
- (4) D

79 Which of the following statements is not true about perfect competition ?

- (1) Large number of buyers and sellers
- (2) Homogeneous products
- (3) Firm is a price maker
- (4) Perfect knowledge

पूर्ण प्रतियोगिता के संदर्भ में निम्न में से कौन सा कथन सही नहीं है ?

- (1) क्रेताओं तथा विक्रेताओं की बहुलता
- (2) समरूपी वस्तुएँ
- (3) फर्म कीमत निर्धारक है
- (4) पूर्ण जानकारी

80 The short run supply curve of a perfectly competitive firm is given by the rising portion of which curve ?

- (1) MC curve over and above the AVC curve
- (2) MC curve over and above the break even point
- (3) MC curve over and above the AC curve
- (4) MC curve

एक प्रतियोगी फर्म का अल्पकालीन पूर्ति वक्र निम्न में से किस वक्र के बढ़ते हुए वक्र का भाग है ?

- (1) MC वक्र का वह भाग जो AVC वक्र से ऊपर है
- (2) MC वक्र का वह भाग जो समविच्छेद बिन्दु से ऊपर है
- (3) MC वक्र का वह भाग जो AC से ऊपर है
- (4) MC वक्र

81 Which of the following has general acceptability ?

- | | |
|-----------------------|----------------|
| (1) Bank draft | (2) Money |
| (3) Bills of exchange | (4) Debit card |

इनमें से किस सर्वग्राह्यता प्राप्त है ?

- | | |
|------------------|-----------------|
| (1) बैंक ड्राफ्ट | (2) मुद्रा |
| (3) विनिमय बिल | (4) डेबिट कार्ड |

82 When was Reserve Bank of India nationalised ?

- | | |
|----------|----------|
| (1) 1959 | (2) 1947 |
| (3) 1945 | (4) 1949 |

भारतीय रिज़र्व बैंक का राष्ट्रीयकरण कब हुआ था ?

- | | |
|----------|----------|
| (1) 1959 | (2) 1947 |
| (3) 1945 | (4) 1949 |

83 Which of the following would cause an expansion in the circular flow of income ?

- | | |
|-------------|-----------------|
| (1) Savings | (2) Imports |
| (3) Taxes | (4) Consumption |

निम्न में से किस चर के कारण आय के चक्राकार प्रवाह में वृद्धि हो सकती है ?

- | | |
|---------|-----------|
| (1) बचत | (2) आयात |
| (3) कर | (4) उपभोग |

84 Which of the following statements is not true ?

- (1) Phillips observed negative relationship between unemployment rate and rate of wage inflation for USA.
- (2) Modern Phillips curve substitutes price inflation for wage inflation.
- (3) Modern Phillips curve includes expected inflation.
- (4) Modern Phillips curve includes supply shocks.

निम्न में से कौनसा कथन सही नहीं है ?

- (1) फिलिप्स ने सं.रा. अमेरिका के लिए बेरोजगारी की दर एवं मजदूरी स्फीति दर के बीच ऋणात्मक सम्बन्ध का अवलोकन किया।
- (2) आधुनिक फिलिप्स वक्र मजदूरी स्फीति के लिए कीमत स्फीति को प्रतिस्थापित करता है।
- (3) आधुनिक फिलिप्स वक्र प्रत्याशित स्फीति को शामिल करता है।
- (4) आधुनिक फिलिप्स वक्र पूर्ति के आघातों को शामिल करता है।

85 Fiscal Policy refers to -

- (1) Government spending
- (2) Taxation
- (3) Influencing level of economic growth
- (4) All above

राजकोषीय नीति का सम्बन्ध निम्न से है -

- (1) राजकीय व्यय
- (2) करारोपण
- (3) आर्थिक संवृद्धि दर को प्रभावित करना
- (4) उपरोक्त सभी

86 The coefficient of correlation lies between :

- (1) Zero to +1 (2) Zero to (-)1
 (3) (-)1 to (+)1 (4) 1 to 10

सहसम्बन्ध गुणांक का मूल्य निम्न रेन्ज में है :

- (1) शून्य से +1 (2) शून्य से (-)1
 (3) (-)1 से (+)1 (4) 1 से 10

87 Economic growth depends on :

- (1) Technology growth (2) Productivity growth
 (3) Increase in capital (4) All above

आर्थिक संवृद्धि निम्न पर निर्भर करती है :

- (1) तकनीकी वृद्धि (2) उत्पादकता वृद्धि
 (3) पूँजी में वृद्धि (4) उपरोक्त सभी

88 The greater the departure of Lorenze curve from 45° line, the distribution of income in a country is said to become -

- (1) More unequal (2) Less unequal
 (3) More equal (4) None of the above

किसी चित्र में लॉरेन्ज वक्र का 45° की रेखा से जितना विचलन होगा, किसी देश में आय का वितरण उतना ही -

- (1) अधिक विषम होगा (2) कम विषम होगा
 (3) अधिक समान होगा (4) इन में से कोई नहीं

89 According to Planning Commission Estimates for 2011-12 published in July, 2013, the percentage of population below poverty line is :

- (1) 29.8 (2) 37.2
(3) 21.9 (4) 30.4

जुलाई 2013 में प्रकाशित योजना आयोग के आँकड़ों के अनुसार 2011-12 में भारत में गरीबी की रेखा से नीचे वाली जनसंख्या का प्रतिशत इस प्रकार है :

- (1) 29.8 (2) 37.2
(3) 21.9 (4) 30.4

90 Point of highest concentration of values is called :

- (1) Harmonic mean (2) Arithmetic mean
(3) Median (4) Mode

मूल्यों के अधिकतम संकेन्द्रण का बिन्दु कहलाता है :

- (1) हरात्मक माध्य (2) समान्तर माध्य
(3) मध्यका (4) बहुलक

91 Trade in invisibles refers to :

- (1) Unrecorded trade
(2) Smuggling
(3) Trade in military goods
(4) Trade in services

अदृश्य मर्दों के व्यापार से निम्न अभिप्राय है :

- (1) वह व्यापार जो अभिलिखित नहीं है
(2) तस्करी
(3) सैन्य वस्तुओं का व्यापार
(4) सेवाओं का व्यापार



92 Fisher's Ideal Index Number Formula does not satisfy -

- (1) Time reversal test (2) Factor reversal test
(3) Circular test (4) Unit test

फिशर का आदर्श सूचकांक निम्न में से किस परीक्षण को संतुष्ट नहीं करता ?

- (1) समय उत्क्राम्यता परीक्षण (2) तत्व उत्क्राम्यता परीक्षण
(3) चक्रीय परीक्षण (4) इकाई परीक्षण

93 Which of the following is not an indicator of physical quality of live index (PQLI) ?

- (1) Life expectancy (2) Infant mortality
(3) Per capita income (4) Literacy

निम्नलिखित में से किसे जीवन की भौतिक गुणता निर्देशांक का सूचक नहीं मानते ?

- (1) जीवन प्रत्याशा (2) शिशु मृत्युदर
(3) प्रति व्यक्ति आय (4) साक्षरता

94 National Foods Security Mission does not include the objective of enhancing production of the following crops :

- (1) Rice (2) Wheat
(3) Pulses (4) Bajra

राष्ट्रीय खाद्य सुरक्षा मिशन में निम्न में से किस फसल के उत्पादन में वृद्धि का लक्ष्य निहित नहीं है ?

- (1) चावल (2) गेहूँ
(3) दालें (4) बाजरा

95 When was Planning Commission setup ?

- (1) 1950 (2) 1947
(3) 1935 (4) 1937

योजना आयोग की स्थापना किस वर्ष में हुई ?

- (1) 1950 (2) 1947
(3) 1935 (4) 1937

96 Finance Commission is constituted in India every -

- (1) Two years (2) Four years
(3) Five years (4) Six years

भारत में वित्त आयोग का गठन प्रत्येक बार कितनी अवधि में किया जाता है ?

- (1) दो वर्ष (2) चार वर्ष
(3) पाँच वर्ष (4) छः वर्ष

97 The concept of group equilibrium is related to -

- (1) Kinked demand curve (2) Perfect competition
(3) Monopolistic competition (4) Duopoly

समूह साम्य की अवधारणा का किस से सम्बन्ध है ?

- (1) विकुंचित माँग वक्र (2) पूर्ण प्रतियोगिता
(3) एकाधिरात्मक प्रतियोगिता (4) द्वयाधिकार



98 Name the joint multi-purpose river valley projects of MP and Rajasthan

- (1) Bhakra Nagal (2) Chambal
(3) Beas (4) Mahi

मध्यप्रदेश व राजस्थान की संयुक्त बहुउद्देशीय नदी घाटी योजना कौन सी है ?

- (1) भाखड़ा नागल (2) चम्बल
(3) ब्यास (4) माही

99 In agriculture three Indo-Israel centres of excellence are at various stages in Rajasthan for transfer and adaptation of Israel's technology in Rajasthan and know how to farmers. Which of the following is not covered ?

- (1) Kota (for citrus fruit) (2) Bassi (for pomegranate)
(3) Jaisalmer (for dry dates) (4) Jobner (for vegetables)

कृषि विकास हेतु भारत-इजरायल के सहयोग से राजस्थान में तीन उच्च दक्षता वाले केन्द्र अलग अलग स्टेज में प्रगति पर हैं जिनके माध्यम से इजरायल कृषकों को प्रौद्योगिकी हस्तांतरण कर रहा है। निम्न में से कौन सा केन्द्र इनमें शामिल नहीं है ?

- (1) कोटा (खट्टे फल) (2) बस्सी (अनार)
(3) जैसलमेर (खजूर) (4) जोबनेर (सब्जियाँ)

100 IMR to Rajasthan in 2011 was -

- (1) 52 (2) 60
(3) 62 (4) 65

2011 में राजस्थान में शिशु मृत्युदर निम्न थी -

- (1) 52 (2) 60
(3) 62 (4) 65

101 Transaction approach of quantity theory of money was given by :

- | | |
|------------|--------------|
| (1) Fisher | (2) Keynes |
| (3) Pigeu | (4) Marshall |

मुद्रा परिमाण सिद्धान्त का सौदा दृष्टिकोण किसने दिया ?

- | | |
|-------------|---------------|
| (1) फिशर ने | (2) कीन्स ने |
| (3) पीगू ने | (4) मार्शल ने |

102 When credit is to be expanded in the economy the central bank ?

- (1) Buys securities in the open Market
- (2) Sells securities in the open Market
- (3) Increases Bank rate
- (4) Increases the cash reserve ratio

जब अर्थव्यवस्था में साख का विस्तार करना हो तो केन्द्रीय बैंक :

- (1) खुले बाजार में प्रतिभूतियाँ क्रय करता है
- (2) खुले बाजार में प्रतिभूतियाँ बेचता है
- (3) बैंक दर बढ़ाता है
- (4) नकद कोषानुपात को बढ़ता है

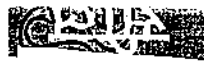
103 'Supply creates its own demand' was said by -

- | | |
|----------------|-------------|
| (1) Adam Smith | (2) Ricardo |
| (3) J. B. Say | (4) Keynes |

'पूर्ति स्वयं अपनी माँग उत्पन्न करती है।' कथन है :

- | | |
|-------------------|-----------------|
| (1) एडमस्मिथ का | (2) रिकार्डो का |
| (3) जे. बी. से का | (4) कीन्स का |





104 An increase in money supply under the liquidity trap situation will -

- (1) reduce the rate of interest
- (2) increase investment
- (3) increase in the level of employment
- (4) have no impact on interest rate

तरलता जाल की स्थिति में मुद्रापूर्ति में वृद्धि करेगी -

- (1) ब्याज की दर में कमी
- (2) विनियोग में वृद्धि
- (3) रोजगार के स्तर में वृद्धि
- (4) ब्याज की दर पर कोई प्रभाव नहीं डालेगी

105 In the classical model saving and investment are the function of -

- (1) income
- (2) rate of interest
- (3) price
- (4) rate of inflation

प्रतिष्ठित मॉडल में बचत और विनियोग निम्नलिखित में से किसके फलन होते हैं?

- (1) आय
- (2) ब्याज की दर
- (3) कीमत
- (4) स्फीती की दर

106 Suppose there is new investment of Rs. 10 crores and the MPS is 0.2 the aggregate income increases by -

- (1) Rs. 50 crores
- (2) Rs. 5 crores
- (3) Rs. 20 crores
- (4) Rs. 10 crores

माना 10 करोड़ रुपये का नया विनियोग किया जाता है और बचत की सीमान्त प्रवृत्ति (MPS) 0.2 है तो समग्र आय बढ़ेगी -

- (1) 50 करोड़ रुपये
- (2) 5 करोड़ रुपये
- (3) 20 करोड़ रुपये
- (4) 10 करोड़ रुपये

107 During stagflation -

- (1) Only prices rise.
- (2) Both prices and employment rise.
- (3) Prices rise but no increase in production and employment.
- (4) Prices rise without increase in money wages.

स्टेगफ्लेशन में -

- (1) केवल कीमतें बढ़ती है।
- (2) कीमतें व रोजगार दोनों बढ़ते हैं।
- (3) उत्पादन और रोजगार में वृद्धि के बिना कीमतें बढ़ती है।
- (4) मौद्रिक मजदूरी में वृद्धि के बगैर कीमतें बढ़ती है।

108 What do you mean by statistical error ?

- (1) it is related with calculation of data
- (2) it is related with errors of origin
- (3) it is related with errors of manipulation
- (4) it is the difference between real value of data and approximate value of data

सांख्यिकीय विभ्रम (त्रुटि) से आपका क्या अभिप्राय है ?

- (1) यह हिसाबी गणना से सम्बन्धित है
- (2) यह मूल त्रुटियों से सम्बन्धित है
- (3) यह प्रहस्तन (manipulation) त्रुटियाँ से सम्बन्धित है
- (4) यह समकों के वास्तविक मूल्य और अनुमानित मूल्य के अन्तर से सम्बन्धित है





109 Among the food grain crops, which one of the following provides maximum output in our country :

- | | |
|------------|--------------------|
| (1) Wheat | (2) Rice |
| (3) Pulses | (4) Coarse cereals |

हमारे देश में खाद्यान्न फसलों में से निम्न में से कौन सी फसल अधिकतम उत्पादन प्रदान करती है ?

- | | |
|-----------|---------------|
| (1) गेहूँ | (2) चावल |
| (3) दालें | (4) मोटे अनाज |

110 To achieve the objectives of the land reforms, following programmes have been initiated in India, are of them is incorrect, pick it up :

- (1) Abolition of Zamindari system
- (2) Tenancy reforms
- (3) Provision of HYV seeds
- (4) Consolidation of holdings

भूमि सुधारों के उद्देश्यों को प्राप्त करने के लिये भारत में निम्न कार्यक्रमों को शुरु किया गया, इनमें से एक गलत है, उसे छांटिये :

- (1) जमींदारी व्यवस्था को समाप्त करना
- (2) काश्तकारी सुधार
- (3) HYV बीजों का प्रावधान
- (4) चकबन्दी

111 In Mundell-Flemming model with flexible exchange rates the following statement is not true :

- (1) A Fiscal expansion leads to an exchange rate appreciation.
- (2) Monetary policy has no effect on output.
- (3) Prices are fixed.
- (4) A Fiscal expansion has no effect on output.

मुण्डैल-फ्लेमिंग मॉडल में लोचशील विनिमय दर की मान्यता होने पर निम्नांकित कथन सही नहीं है :

- (1) राजकोषीय विस्तार के परिणाम स्वरूप विनिमय दर में वृद्धि होगी।
- (2) उत्पादन पर मौद्रिक नीति अप्रभावी है।
- (3) कीमतेँ स्थिर है।
- (4) राजकोषीय विस्तार का उत्पादन पर प्रभाव नहीं पडता।

112 The distribution of two commodities between two individuals is said to be Pareto optimal if -

- (1) one individual cannot be made better off without making the other worse off.
- (2) the individuals are on their consumption contract curve.
- (3) the individuals are on their utility possibility curve.
- (4) all of the above

दो व्यक्तियों के मध्य दो वस्तुओं का वितरण पैरेटो अनुकूलतम तब माना जायेगा, जब

- (1) किसी व्यक्ति को अपेक्षाकृत खराब स्थिति में लाये बिना किसी अन्य व्यक्ति को अपेक्षाकृत अच्छी स्थिति में लाना संभव नहीं होता है।
- (2) व्यक्ति अपने उपभोग संविदा वक्र पर होते है।
- (3) व्यक्ति अपने उपयोगिता संभावना वक्र पर होते है।
- (4) उपरोक्त सभी



113 In which of the following cases sampling method will not be suitable ?

- (1) Average weight of newly born babies.
- (2) Opinion of voters immediately before general election.
- (3) Test of the quality of pressure cookers.
- (4) Average life of electric light bulbs.

निम्नलिखित में से किस दशा में निर्देशन पद्धति उपयुक्त नहीं है ?

- (1) नवजात शिशुओं का औसत भार
- (2) सामान्य चुनाव से ठीक पूर्व वोटों के विचार
- (3) प्रेशर कूकर की किस्म
- (4) विद्युत बल्बों की औसत आयु

114 Which of the following is not correct about the IS-LM model ?

- (1) The LM curve is positively sloped.
- (2) The IS curve is negatively sloped.
- (3) Expansionary monetary policy shifts the LM curve down ward.
- (4) Contractionary fiscal policy shifts the IS curve to the right.

मॉडल IS-LM के बारे में निम्न में से कौन सा कथन सही नहीं है ?

- (1) LM वक्र धनात्मक ढाल वाला होता है।
- (2) IS वक्र ऋणात्मक ढाल वाला होता है।
- (3) विस्तारवादी मौद्रिक नीति से LM वक्र नीचे की ओर विवर्तित होता है।
- (4) संकुचनशील राजकोषीय नीति से IS वक्र दाहिनी ओर विवर्तित होता है।

115 According to Heckscher-Ohlin model of International Trade the comparative advantage of a country versus another country is determined by :

- (1) Relative level of efficiency in production technology
- (2) Relative difference in the import tariffs
- (3) Relative abundance in factor endowment
- (4) Relative effectiveness of monetary and fiscal policies

अन्तर्राष्ट्रीय व्यापार के हेक्सचर-ओहलिन मॉडल के अनुसार किसी देश का दूसरे देश की तुलना में तुलनात्मक लाभ निर्धारित होता है :

- (1) उत्पादन तकनीक में सापेक्षिक कुशलता के आधार पर
- (2) आयात प्रशुल्क में सापेक्षिक अन्तर द्वारा
- (3) संसाधनों की सापेक्षिक बहुलता द्वारा
- (4) मौद्रिक एवं राजकोषीय नीतियों की सापेक्षिक प्रभावशीलता द्वारा

116 Who was the first to define and estimate poverty in India ?

- (1) B. S. Minhas
- (2) V. K. R. V. Rao
- (3) Dandekar and Rath
- (4) D. R. Gadgil

भारत में निर्धनता को सर्वप्रथम परिभाषित एवं अनुमानित किसने किया ?

- (1) बी. एस. मिन्हास
- (2) वी. के. आर. वी. राव
- (3) दण्डेकर एवं रथ
- (4) डी. आर. गडगिल



117 One of the key features of the Solow model is -

- (1) technological level is constant over time
- (2) savings rate changes overtime
- (3) increasing returns to scale
- (4) diminishing returns to scale

सोलो मॉडल की एक मुख्य विशेषता है -

- (1) समय के साथ तकनीक की स्थिरता
- (2) समय के साथ बचत दर का परिवर्तित होना
- (3) उत्पादन के बढ़ते प्रतिफल के नियम
- (4) उत्पादन के घटते प्रतिफल के नियम

118 Solow model and Harrod-Domar model have the common feature that -

- (1) both models assume a fixed saving rate
- (2) both are long term model
- (3) both are short term model
- (4) both assumes similar returns to scale

सोलो एवं हैराड-डोमार मॉडल में एक सामान्य विशेषता यह है - कि -

- (1) दोनों बचत दर स्थिर मानते हैं
- (2) दोनों दीर्घकालिक मॉडल हैं
- (3) दोनों अल्पकालिक मॉडल हैं
- (4) दोनों में उत्पादन के नियम समान हैं

119 If both the regression coefficients b_{xy} and b_{yx} have a negative sign, the sign of coefficient of correlation - r - will be :

- (1) both positive and negative
- (2) negative
- (3) positive
- (4) indeterminate

यदि दोनों प्रतीपगमन गुणांकों b_{xy} एवं b_{yx} के मूल्यों का निशान ऋणात्मक है, तब सहसम्बन्ध गुणांक - r - का निशान होगा -

- (1) धनात्मक एवं ऋणात्मक दोनों
- (2) ऋणात्मक
- (3) धनात्मक
- (4) अनिर्धारणीय

120 Environment is a public good that is -

- (1) Rival and excludable
- (2) Non-rival and non-excludable
- (3) Rival and non-excludable
- (4) non-rival and excludable

पर्यावरण एक सार्वजनिक वस्तु है, जो -

- (1) प्रतिस्पर्धी एवं वर्जनीय है
- (2) नैर प्रतिस्पर्धी एवं नैर वर्जनीय है
- (3) प्रतिस्पर्धी एवं नैर वर्जनीय है
- (4) नैर प्रतिस्पर्धी एवं वर्जनीय है



121

"Any activity can be called learning so far as it develops the individual (in any respect good or bad) and makes his later behaviour and experiences different from what they would otherwise have been". It was stated by :

- (1) Woodworth
- (2) Kingsley
- (3) Gates
- (4) Gardner Murphy

'किसी भी ऐसी क्रिया को जो कि व्यक्ति के (अच्छे या बुरे किसी भी तरह के) विकास में अवरोध होती है और उसके वर्तमान व्यवहार और अनुभवों को जो कुछ वे हो सकने में एकड़े विचार बनाती है, सीखने की संज्ञा दी जा सकती है।' यह कथन किसका है .

- (1) वुडवर्थ
- (2) किंगस्ले
- (3) गेट्स
- (4) गार्डनर मर्फी

122 Which of the following is not an essential factor for the cognitive development according to Piaget ?

- (1) Experiences of physical environment
- (2) Combination
- (3) Biological maturity
- (4) Experiences of social environment

निम्नलिखित में से कौन सा पियाजे के अनुसार संज्ञानात्मक विकास का एक अनिवार्य कारक नहीं है ?

- (1) भौतिक पर्यावरण के अनुभव
- (2) संयोजन
- (3) जैविक परिपक्वता
- (4) सामाजिक पर्यावरण के अनुभव

123 Educational Technology III is also known as :

- (1) System analysis (2) Hardware approach
(3) Software approach (4) None of these

शैक्षिक तकनीक III को जिस और नाम से भी जाना जाता है :

- (1) प्रणाली विश्लेषण (2) हार्डवेयर उपागम
(3) सॉफ्टवेयर उपागम (4) इनमें से कोई नहीं

124 Which of the following is not a form of communication ?

- (1) Art (2) Graphic
(3) Media (4) Signs

निम्नलिखित में से कौन-सा संप्रेषण का माध्यम नहीं है ?

- (1) कला (2) ग्राफिक
(3) माध्यम (4) संकेत

125 Which of the following is not a characteristic of social development in adolescence ?

- (1) Active member of their peer group
(2) Attraction towards opposite sex
(3) High decrease in friendly relationship
(4) Extension of special interests

निम्नलिखित में से कौन-सा किशोरावस्था में सामाजिक विकास का एक लक्षण नहीं है ?

- (1) अपने वय समूह का एक सक्रिय सदस्य
(2) विपरित लिंग के प्रति आकर्षण
(3) मैत्री संबंधों में भारी कमी
(4) विशिष्ट रुचियों में विस्तार



126 Wilhelm Wundt of Germany is known for :

- (1) Opening first psychological laboratory
- (2) Working in the field of computers
- (3) Propounding a theory of social development
- (4) Working on sign learning theory

जर्मनी के विलहेम वुण्ट जाने जाते हैं :

- (1) पहली मनोवैज्ञानिक प्रयोगशाला खोलने के लिए
- (2) कम्प्यूटर के क्षेत्र में कार्य करने के लिए
- (3) सामाजिक विकास का सिद्धांत प्रतिपादित करने के लिए
- (4) चिह्न सिद्धांत पर कार्य करने के लिए

127 "The advance organizer teaching model is designed to strengthen students cognitive structures," It was said by the developer of the model, whose name is :

- (1) Walter Munroe
- (2) David Asubel
- (3) G. D. Boaz
- (4) J. P. Gulford

"अग्रिम व्यवस्थापक शिक्षण मॉडल को विद्यार्थियों की संज्ञानात्मक संरचनाओं को सुदृढ़ करने हेतु डिजाइन किया गया है।" यह कथन मॉडल विकसित करने वाले का है, जिनका नाम है :

- (1) वाल्टर मुनरो
- (2) डेविड आसुबेल
- (3) जी. डी. बोज
- (4) जे. पी. गुलफोर्ड

128 According to J. P. Guilford learning is :

- | | |
|------------------------|---------------------------|
| (1) Change in thinking | (2) Creation of knowledge |
| (3) Gaining experience | (4) Change in behavior |

जे. पी. गिलफोर्ड के अनुसार, अधिगम है :

- | | |
|------------------------|--------------------------|
| (1) सोच में परिवर्तन | (2) ज्ञान का सर्जन |
| (3) अनुभव प्राप्त करना | (4) व्यवहार में परिवर्तन |

129 Which statement is not correct with reference to day dreaming ?

- (1) Day dreaming in its normal form is beneficial for adolescents.
- (2) It helps in writing stories and poetry.
- (3) It sometimes results into creative work.
- (4) It is never harmful.

कौन-सा कथन दिवास्वप्न के संदर्भ में सही नहीं है ?

- (1) दिवास्वप्न अपने सामान्य रूप में किशोरों के लिए लाभदायक है।
- (2) यह कहानियाँ और कविताएँ लिखने में मदद करते हैं।
- (3) यह कभी-कभी रचनात्मक कार्य में परिणित हो जाते हैं।
- (4) यह कभी भी हानिकारक नहीं होता।

130 The term Educational Technology was used for the first time by :

- | | |
|---------------|-----------------|
| (1) Alexander | (2) J. S. Ross |
| (3) Brynmor | (4) K. Mckinnon |

शैक्षिक तकनीकी का प्रयोग सर्वप्रथम जिन्होंने किया :

- | | |
|----------------|------------------|
| (1) ऐलेक्जेंडर | (2) जे. एस. रॉस |
| (3) ब्राइमर | (4) के. मैककिनोन |



131 For training a child teacher must check his / her :

- (1) Physical maturity (2) Mental maturity
(3) Both (1) and (2) (4) None of these

बच्चे के प्रशिक्षण के लिए शिक्षक को अवश्य जाँच करनी चाहिए, उसकी :

- (1) शारीरिक परिपक्वता (2) मानसिक परिपक्वता
(3) दोनों (1) और (2) (4) इनमें से किसी की नहीं

132 Improper use of prize and punishment makes learning :

- (1) Effective (2) More useful
(3) Ineffective (4) Cannot say anything

पुरस्कार और दण्ड का अनुचित प्रयोग अधिगम को बनाता है :

- (1) प्रभावपूर्ण (2) अधिक उपयोगी
(3) प्रभावहीन (4) कुछ नहीं कह सकते

133 Hardware approach of Education Technology emerges from :

- (1) Mathematics and Physics (2) Physics and Engineering
(3) Engineering and Education (4) Education and Physics

शिक्षा तकनीकी का आविर्भाव जिनसे हुआ :

- (1) गणित और भौतिकी (2) भौतिकी और इंजीनियरी
(3) इंजीनियरी और शिक्षा (4) शिक्षा और भौतिकी

134 Learning of an individual takes place :

- | | |
|--------------------|----------------------|
| (1) upto childhood | (2) upto adolescence |
| (3) upto adulthood | (4) life long |

किसी व्यक्ति का अधिगम होता है :

- | | |
|---------------------|--------------------|
| (1) बचपन तक | (2) किशोरावस्था तक |
| (3) प्रौढ़ावस्था तक | (4) जीवन पर्यन्त |

135 Physical changes in a child affects to a large extent on his/her :

- | | |
|---------------|-------------------|
| (1) interests | (2) works |
| (3) behavior | (4) all the above |

बालक में शारीरिक परिवर्तन जिसे बहुत अधिक प्रभावित करता है :

- | | |
|-------------|---------------|
| (1) रुचियाँ | (2) कार्य |
| (3) व्यवहार | (4) इन सभी को |

136 Which of the following is a negative emotion ?

- | | |
|----------|-----------------|
| (1) Joy | (2) Anxiety |
| (3) Hope | (4) Achievement |

निम्नलिखित में से कौन-सा नकारात्मक संवेग है ?

- | | |
|----------|-------------|
| (1) आनंद | (2) चिन्ता |
| (3) आशा | (4) उपलब्धि |

137 According to a study done by K. McKinnon the children who adjust themselves according to different and changing situations of society belong to the :

- (1) Withdrawl class (2) Evasive class
 (3) Conforming class (4) Cautions class

के. मैककिनन द्वारा बच्चों पर किए गए अध्ययन के अनुसार जो बच्चे अपने को समाज की विभिन्न और बदलती परिस्थितियों के अनुसार व्यवस्थित कर लेते हैं, वे जिस वर्ग से संबंधित होते हैं :

- (1) प्रत्याहार वर्ग (2) अनिश्चित वर्ग
 (3) अनुरूपता वर्ग (4) सावधान वर्ग

138 Intelligence Quotient (IQ) is calculated by the formula :

- (1) $\frac{\text{mental age}}{\text{actual age}} \times 100$ (2) $\frac{\text{actual age}}{\text{mental age}} \times 100$
 (3) mental age \times actual age (4) $\frac{\text{mental age} \times \text{actual age}}{100}$

बुद्धि लब्धि (IQ) की गणना करने का सूत्र है :

- (1) $\frac{\text{मानसिक आयु}}{\text{वास्तविक आयु}} \times 100$ (2) $\frac{\text{वास्तविक आयु}}{\text{मानसिक आयु}} \times 100$
 (3) मानसिक आयु \times वास्तविक आयु (4) $\frac{\text{मानसिक आयु} \times \text{वास्तविक आयु}}{100}$

139 The factor which brings change in behavior that is between permanent and temporary is :

(1) Metal fatigue

(2) Habit

(3) Maturation

(4) Conditioning

कारक जो व्यवहार में स्थाई और अस्थायी के बीच का परिवर्तन लाता है :

(1) मानसिक थकावट

(2) अभ्यास

(3) परिपक्वता

(4) अभिरूपा

140 Which of the following is not a direct method to reduce tension and to solve inner conflict ?

(1) Removing the barrier

(2) Seeking another path

(3) Sublimation

(4) Substitution of another goal

निम्नलिखित में कौनसी तनाव कम करने और अंतर्द्वन्द्व का समाधान की प्रत्यक्ष विधि नहीं है ?

(1) रुकावट दूर करना

(2) दूसरा रास्ता निकालना

(3) उदात्तीकरण

(4) दूसरे लक्ष्य का प्रतिस्थापन

141 In the field of education most important one of the following is :

(1) Teacher

(2) Learner

(3) Syllabus

(4) Textbook

शिक्षा के क्षेत्र में निम्नलिखित में से सबसे महत्वपूर्ण होता है

(1) शिक्षक

(2) शिक्षार्थी

(3) पाठ्यक्रम

(4) पाठ्यपुस्तक

142 Which of the following is not a primary law of learning as described by Thorndike in his book "Educational Psychology" ?

- (1) Law of Readiness (2) Law of Multiple Response
(3) Law of Exercise (4) Law of Effect

निम्नलिखित में से कौन-सा अधिगम का मुख्य नियम नहीं है, जैसा कि थार्नडाइक ने अपनी पुस्तक "एजुकेशनल साइकोलॉजी" में दिया है ?

- (1) तैयारी का नियम (2) बहुप्रतिक्रिया का नियम
(3) अभ्यास का नियम (4) प्रभाव का नियम

143 Which of the following statement is not correct concerning a teacher ?

- (1) She / he should have an understanding of the nature of her / his students.
(2) Psychology helps a teacher to understand the nature of her / his students.
(3) Teacher should have no concern with the interests of the children.
(4) Psychology gives a treasure of facts and theories to a teacher.

किसी शिक्षक से संबंधित निम्नलिखित में से कौन-सा कथन सही नहीं है ?

- (1) उसे अपने विद्यार्थियों की प्रकृति की समझ होनी चाहिए।
(2) मनोविज्ञान, शिक्षक को अपने विद्यार्थियों की प्रकृति को समझने में मदद करता है।
(3) शिक्षक को बच्चों की रुचियों से कोई सरोकार नहीं होना चाहिए।
(4) मनोविज्ञान, शिक्षक को तथ्यों और सिद्धांतों का एक भंडार उपलब्ध कराता है।

144 In educational technology input is generally given by :

- | | |
|--------------|----------------|
| (1) Teacher | (2) Student |
| (3) Computer | (4) Television |

शैक्षिक तकनीकी में अदा (input) सामान्यतः देता है :

- | | |
|---------------|----------------|
| (1) शिक्षक | (2) विद्यार्थी |
| (3) कम्प्यूटर | (4) टेलीविजन |

145 The approach affecting learning related to content is :

- | | |
|------------------|------------------------------|
| (1) Presentation | (2) Environmental |
| (3) Maturity | (4) Form simple to difficult |

अधिगम को प्रभावित करने वाला विषय वस्तु संबंधी उपागम है :

- | | |
|------------------|-----------------|
| (1) प्रस्तुतीकरण | (2) पर्यावरणीय |
| (3) परिपक्वता | (4) सरल से कठिन |

146 A child does multiplication and division after learning tables. This is an example of learning displacement of the type :

- | | |
|------------------------|--------------------------|
| (1) Mental to physical | (2) Physical to physical |
| (3) Mental to mental | (4) Physical to mental |

एक बालक पहाड़े सीख कर उसका उपयोग गुणा और भाग करने में करता है। अधिगम स्थानांतरण के जिस प्रकार का यह उदाहरण है :

- | | |
|-----------------------|------------------------|
| (1) मानसिक से शारीरिक | (2) शारीरिक से शारीरिक |
| (3) मानसिक से मानसिक | (4) शारीरिक से मानसिक |

147 Which of the following is not a psychologic factor of child crime ?

- (1) Mental struggle (2) Strong desire
(3) Politics (4) Thick-headedness

निम्नलिखित में से कौन-सा बाल अपराध का एक मनोवैज्ञानिक कारक नहीं है ?

- (1) मानसिक संघर्ष (2) प्रबल कामना
(3) राजनीति (4) मंदबुद्धिता

148 Which of the following is not an example of natural motivation ?

- (1) Thirst (2) Reputation
(3) Safety (4) Hunger

निम्नलिखित में से कौन-सा प्राकृतिक अभिप्रेरणा का उदाहरण नहीं है ?

- (1) प्यास (2) प्रतिष्ठा
(3) सुरक्षा (4) भूख

149 The common goal of education and psychology is :

- (1) better education (2) study of behavior
(3) change in behavior (4) child development

शिक्षा और मनोविज्ञान का उभयनिष्ठ लक्ष्य है :

- (1) बेहतर शिक्षा (2) व्यवहार का अध्ययन
(3) व्यवहार में परिवर्तन (4) बाल विकास

150 Which of the following is not a field of educational psychology ?

- (1) personal similarities (2) evaluation
(3) preparation of syllabus (4) learning

निम्नलिखित में से कौन-सा शैक्षिक मनोविज्ञान का क्षेत्र नहीं है ?

- (1) व्यक्तिगत समानताएँ (2) मूल्यांकन
(3) पाठ्यक्रम का निर्माण (4) अधिगम



SPACE FOR ROUGH WORK / कच्चे काम के लिये जगह



EASL_A]

