

R.A.S (M)

FOR EVALUATOR'S USE ONLY

Sub. Code : **15**

Optional Paper

Geography : Paper - **II**

Time : 3 Hours / Maximum Marks : 200 / Total Pages : 32

Evaluation Table												(For Evaluator's Use Only)	
PART-A				PART-B				PART-C				Grand Total	
QN	E-1	E-2	AC	QN	E-1	E-2	AC	QN	E-1	E-2	AC	PART-A	
1				21				33				PART-B	
2				22				34				PART-C	
3				23				35				Total	
4				24				36				(-) Marks	
5				25				37				Final Total	
6				26				38				Marks in Words	
7				27				39					
8				28									
9				29									
10				30									
11				31									
12				32								Remarks of Evaluator/Chief Evaluator	
13													
14													
15													
16													
17													
18												Remarks of Scrutiniser	
19													
20													
Total													
Evalu ator's Sign													

BLANK PAGE

Note

नोट :

1

—
—
—
—
—
—

2

—
—
—
—
—
—

3



PART - A

भाग - अ

Marks : 40

अंक : 40

Note : Attempt all the twenty questions. Each question carries 2 marks. Answer should not exceed 15 words.

नोट : समस्त २० प्रश्नों के उत्तर दीजिये। प्रत्येक प्रश्न के लिये २ अंक निर्धारित हैं। उत्तर १५ शब्दों से अधिक नहीं होना चाहिये।

- 1 In which areas of India 'Bhabar' and 'Khadar' plains are located ?
भारत के किन क्षेत्रों में 'भाबर' और 'खादर' मैदान स्थित हैं ?

- 2 Name any four tributaries of Brahmaputra river which flows in Assam Valley.
असम घाटी में प्रवाहित होने वाली ब्रह्मपुत्र नदी की चार सहायक नदियों के नाम लिखिये ।

- 3 What are the characteristics of the Arabian and Bay of Bengal Monsoons ?
अरब सागर और बंगाल की खाड़ी के मानसून की क्या विशेषताएं हैं ?



4 Name the States of India having Tharu and Toda tribes.

भारत में थारू और टोडा जनजाति वाले राज्यों के नाम लिखिये ।

5 In 2011 Census, which four States of India have recorded highest density of population ?

2011 की जनगणना में भारत के कौन से चार राज्यों में अधिकतम जनसंख्या घनत्व अंकित किया गया ?

6 Which six States of India together produce about ninety percent of Groundnut ?

भारत के कौन से छः राज्य मिलकर 90 प्रतिशत मूंगफली का उत्पादन करते हैं ?



7 Which factors determine land capabilities in India ?

भारत में कौन से कारक / घटक भूमि की क्षमता को निर्धारित करते हैं ?

8 Where important Aluminium Plants are located in India ?

भारत में प्रमुख एल्युमिनियम संयंत्र कहाँ स्थित हैं ?

9 Rivers draining into the Arabian Sea, do not have deltas, why ?

अरब सागर की ओर बहनेवाली नदियाँ डेल्टा नहीं बनाती हैं, क्यों ?



10 Name the National waterways of India.

भारत के राष्ट्रीय जलमार्गों के नाम लिखिये ।

13

11 Despite the rich natural resources of Chhattisgarh, why its people are poor ?

छत्तीसगढ़ में समृद्ध प्राकृतिक संसाधनों के बावजूद वहाँ के लोग गरीब क्यों हैं ?

14

12 Which State / Union Territory of India have recorded highest and lowest growth of population during 2001-2011 ? Also mention their percentage.

भारत में 2001-2011 में कौन से राज्य/केन्द्र-शासित प्रदेश में अधिकतम एवं न्यूनतम जनसंख्या वृद्धि अंकित की गई ? उनके प्रतिशत भी वर्णित कीजिये ।

15



13 Name the four tributaries of Kalisindh River.

कालीसिंध नदी की चार सहायक नदियों के नाम लिखिये ।

14 In which districts of Rajasthan saline and alkaline soils are found ? How can they be treated ?

राजस्थान के किन जिलों में लवणीय और अम्लीय मृदा पाई जाती है ? इनको कैसे सुधारा जा सकता है ?

15 Where Fuller's Earth is found in Rajasthan ? What are its uses ?

राजस्थान में मुल्लानी मिट्टी कहाँ पाई जाती है ? इसके उपयोग क्या है ?




- 16 Describe location, length of dam and size of the catchment area of Mahi-Bajaj Sagar Project.
माही-बजाज सागर परियोजना की स्थिति, बांध की लम्बाई और जलग्रहण क्षेत्र के आकार का वर्णन कीजिये ।

19

- 17 Why most of the Maize growing districts are located in Southern Rajasthan ?
अधिकांश मक्का उत्पादक जिले दक्षिणी राजस्थान में क्यों स्थित हैं ?

20

- 18 Write name of the eight breeds of sheep found in Rajasthan.
राजस्थान में मिलने वाली भेड़ों की आठ नस्लों (किस्मों) के नाम लिखिये !



19 Where do flash floods occur in Rajasthan and why ?

राजस्थान में एकाएक बाढ़ कहाँ आती है और क्यों ?

20 Write name of eight rivers / tributaries of the Eastern plain of Rajasthan.

राजस्थान के पूर्वी मैदान की आठ नदियों / सहायक नदियों के नाम लिखिये ।



PART - B

भाग - ब

Marks : 60

अंक : 60

23 V

भ

Note : Attempt all the twelve questions. Each question carries 5 marks. Answer should not exceed 50 words.

नोट : समस्त १२ प्रश्नों के उत्तर दीजिये। प्रत्येक प्रश्न के ५ अंक निर्धारित हैं। उत्तर ५० शब्दों से अधिक नहीं होना चाहिए।

21 Describe in brief the physiography of the Eastern Himalayas.

पूर्वी हिमालय के भू-आकृतिक स्वरूप का संक्षिप्त वर्णन कीजिये।

22 Discuss the characteristics of the natural vegetation of Himalayan region and the Peninsular plateau region of India.

भारत के हिमालय क्षेत्र और प्रायद्वीपीय पठारी क्षेत्र की प्राकृतिक वनस्पति की विशेषताओं का विवेचन कीजिये।

24



23 Which schemes have been introduced for the land reforms in India ?

भारत में भूमि सुधार हेतु कौन से कार्यक्रम लागू किये गये ?

24 What are the characteristics of the Western and Eastern ghats affecting drainage and rain patterns ?

पश्चिमी और पूर्वी घाट की क्या विशेषताएं हैं जो वहाँ के जलप्रवाह और वर्षा के प्रारूप को प्रभावित करती हैं ?



- 25 Describe the growth of public sector Fertilizer Industries in India.
भारत में सार्वजनिक क्षेत्र में उर्वरक उद्योगों के विकास का वर्णन कीजिये ।

27 I
3

- 26 Which five States of India accounts for more than fifty percent of the fish production (marine and inland tanks and rivers), and what are the factors ?
भारत के कौन से पाँच राज्य पचास प्रतिशत से अधिक मछली उत्पादन (समुद्र तथा आन्तरिक जलाशयों एवं नदियों) करते हैं, और उसके क्या कारण हैं ?

28



27 Describe the characteristics of the growth of population in India during 1981-2011.
भारत में 1981-2011 के मध्य जनसंख्या वृद्धि की विशेषताओं का वर्णन कीजिये ।

28 Explain the importance of Multi-level Planning in India.
भारत में बहु-स्तरीय नियोजन के महत्व को स्पष्ट कीजिये ।



29 Write a note on Emerald and Garnet mining areas in Rajasthan.

राजस्थान में पन्ना और तामड़ा (गारनेट) खनन क्षेत्रों पर टिप्पणी लिखिये ।

30 Explain the physical and cultural differences and similarities between the North-Eastern States and Jammu-Kashmir.

उत्तर-पूर्वी राज्यों और जम्मू-काश्मीर की भौतिक और सांस्कृतिक विभिन्नताओं और समानताओं की विवेचना कीजिये ।



100
100

seed

शब्दों

on.
ये।



35 Divide India into industrial regions and describe in detail any one industrial region.
 भारत को औद्योगिक प्रदेशों में विभक्त कीजिये तथा किसी एक औद्योगिक प्रदेश का विस्तार से वर्णन कीजिये ।

Handwritten area containing horizontal lines for the student's response to question 35.



tion.
जेये



36 Discuss the problems and planning of draught prone areas and command areas of India.
भारत में सूखा प्रवण क्षेत्रों एवं कमान (कमान्ड) क्षेत्रों की समस्याओं एवं नियोजन का विवेचन कीजिये।






37 Describe the physical conditions of the South-Eastern Plateau (Hadaoti Plateau) of Rajasthan and discuss its impact on economy.

राजस्थान के दक्षिणी-पूर्वी पठार (हाड़ौती का पठार) की प्राकृतिक दशाओं का वर्णन कीजिये तथा इसका अर्थव्यवस्था पर प्रभाव का विवेचन कीजिये ।

Lined area for writing the answer to question 37.



l) of

इसका

Lined writing area for answers.




38 Write an essay on Bisalpur Irrigation and Water Supply Project with focus on catchment area, command and reservoir zones and the problems of displacement and rehabilitation. बीसलपुर सिंचाई तथा जलपूर्ति योजना का जलग्रहण क्षेत्र, कमांड क्षेत्र, जलाशय क्षेत्र (reservoir zone) और विस्थापन और पुनर्स्थापन को केन्द्रित करते हुए एक लेख लिखिये ।



39 For the physical, social and political unity of India, what kind of planning model you suggest and why ?

भारत के भौतिक, सामाजिक और राजनीतिक एकता के लिये आप योजना के कैसे मॉडल का सुझाव देना चाहेंगे और क्यों ?



SPACE FOR ROUGH WORK / रफ़ कार्य के लिए जगह





SPACE FOR ROUGH WORK / रफ़ कार्य के लिए जगह

