

विषय / Subject :

Economics

कोड / Code : **05**

पुस्तिका में पृष्ठों की संख्या /

Number of Pages in Booklet : 16

पुस्तिका में प्रश्नों की संख्या /

Number of Questions in Booklet : 50

समय / Time : 1 $\frac{1}{4}$ घंटे / Hours

पूर्णांक / Maximum Marks : 100

INSTRUCTIONS

1. Answer all questions.
2. All questions carry equal marks.
3. Only one answer is to be given for each question.
4. If more than one answers are marked, it would be treated as wrong answer.
5. Each question has four alternative responses marked serially as 1, 2, 3, 4. You have to darken the correct answer.
6. There will be no negative marking for wrong answer.
7. The candidate should ensure that Roll Number, Subject Code and Series Code on the Question Paper Booklet and Answer Sheet must be same after opening the envelopes. In case they are different, a candidate must obtain another Question Paper of the same series. Candidate himself shall be responsible for ensuring this.
8. Mobile Phone or any other electronic gadget in the examination hall is strictly prohibited. A candidate found with any of such objectionable material with him/her will be strictly dealt as per rules.
9. The candidate will be allowed to carry the carbon print-out of OMR Response Sheet with them on conclusion of the examination.
10. If there is any sort of ambiguity/mistake either of printing or factual nature then out of Hindi and English Version of the question, the English Version will be treated as standard.

Warning : If a candidate is found copying or if any unauthorised material is found in his/her possession, F.I.R. would be lodged against him/her in the Police Station and he/she would liable to be prosecuted under Section 3 of the R.P.E. (Prevention of Unfairmeans) Act, 1992. Commission may also debar him/her permanently from all future examinations of the Commission.

05 / ECONO22_A

निर्देश

1. सभी प्रश्नों के उत्तर दीजिए ।
2. सभी प्रश्नों के अंक समान हैं ।
3. प्रत्येक प्रश्न का केवल एक ही उत्तर दीजिए।
4. एक से अधिक उत्तर देने की दशा में प्रश्न के उत्तर को गलत माना जाएगा ।
5. प्रत्येक प्रश्न के चार वैकल्पिक उत्तर दिये गये हैं, जिन्हें क्रमशः 1, 2, 3, 4 अंकित किया गया है। अभ्यर्थी सही उत्तर वाले गोले को काला करें ।
6. गलत उत्तर के लिए ऋणात्मक अंकन नहीं किया जाएगा ।
7. प्रश्न-पत्र पुस्तिका एवं उत्तर पत्रक के लिफाफे की सील खोलने पर परीक्षार्थी यह सुनिश्चित कर लें कि उसके अनुक्रमांक प्रश्न-पत्र पुस्तिका एवं उत्तर पत्रक पर समान रूप से विषय कोड एवं प्रश्न पुस्तिका की सीरीज अंकित है । इसमें कोई भिन्नता हो तो वीक्षक से प्रश्न-पत्र की ही सीरीज वाला दूसरा प्रश्न-पत्र का लिफाफा प्राप्त कर लें । ऐसा न करने पर जिम्मेदारी अभ्यर्थी की होगी ।
8. मोबाईल फोन अथवा इलेक्ट्रॉनिक यंत्र का परीक्षा हॉल में प्रयोग पूर्णतया वर्जित है। यदि किसी अभ्यर्थी के पास ऐसी कोई वर्जित सामग्री मिलती है तो उसके विरुद्ध आयोग द्वारा नियमानुसार कार्यवाही की जायेगी।
9. अभ्यर्थी अपने साथ उत्तर पत्रक की संलग्न कार्बन प्रति अपने साथ ले जा सकते हैं ।
10. यदि किसी प्रश्न में किसी प्रकार की कोई मुद्रण या तथ्यात्मक प्रकार की त्रुटि हो तो प्रश्न के हिन्दी तथा अंग्रेजी रूपान्तरों में से अंग्रेजी रूपान्तर मान्य होगा ।

चेतावनी : अगर कोई अभ्यर्थी नकल करते पकड़ा जाता है या उसके पास से कोई अनधिकृत सामग्री पाई जाती है, तो उस अभ्यर्थी के विरुद्ध पुलिस में प्राथमिकी दर्ज कराई जायेगी और आर. पी. ई. (अनुचित साधनों की रोकथाम) अधिनियम, 1992 के नियम 3 के तहत कार्यवाही की जायेगी। साथ ही आयोग ऐसे अभ्यर्थी को भविष्य में होने वाली आयोग की समस्त परीक्षाओं से विवर्जित कर सकता है।



[Contd...]

55555

1 In macroeconomics disposable income refers to :

- (1) Income after taxes and transfers
- (2) After - tax income
- (3) Income spend on consumer durable items
- (4) Income over and above cost of necessities

समष्टि अर्थशास्त्र में प्रयोज्य आय का अभिप्राय है :

- (1) कर एवं हस्तान्तरण उपरान्त आय
- (2) कर उपरान्त आय
- (3) स्थायी उपभोग वस्तुओं पर व्यय
- (4) आवश्यकताओं की पूर्ति से अधिक आय

2 Who among the following did not estimate the incidence of poverty in India ?

- (1) B. S. Minhas
- (2) P. K. Bardhan
- (3) V. M. Dandekar and Rath
- (4) Raj Krishna

निम्नांकित में से किसने भारत में गरीबी भार सम्बन्धी अनुमान नहीं लगाया है :

- (1) बी. एस. मिन्हास
- (2) पी. के. बारधान
- (3) वी. एम. दाण्डेकर एवं रथ
- (4) राजकृष्णा

3 If nominal GDP is equal to real GDP, then

- (1) The GDP deflator is equal to zero
- (2) The GDP deflator is equal to one
- (3) The GDP deflator is less than one
- (4) None of the above is correct

यदि मौद्रिक जी.डी.पी. एवं वास्तविक जी.डी.पी. बराबर हैं तो :

- (1) जी.डी.पी. भाजक का मूल्य शून्य है
- (2) जी.डी.पी. भाजक का मूल्य एक है
- (3) जी.डी.पी. भाजक का मूल्य एक से कम है
- (4) उपर्युक्त में से कोई सही नहीं है



4 An empirical study on relationship between the rate of money wage rate increase and rate of unemployment in the economy was given by -

- (1) A. W. Phillips (2) J. M. Keynes
(3) Adam Smith (4) Karl Marx

बेरोजगारी की दर एवं मौद्रिक मजदूरी में वृद्धि की दर के मध्य आनुभाषिक अध्ययन करने वाला था :

- (1) ए. डब्ल्यू. फिलिप्स (2) जे. एम. कीन्स
(3) एडम स्मिथ (4) कार्ल मार्क्स

5 Estimate the Gross National Product (GNP) of an economy from the data given below :

- (a) Value of consumer goods and services Rs. 20,000 crore
(b) Value of capital goods and services Rs. 10,000 crore
(c) Value of exports Rs. 4,000 crore
(d) Value of imports Rs. 2,600 crore
(e) Total depreciation Rs. 1,600 crore

Which one of the following is correct

- (1) Rs. 31,400 crore (2) Rs. 32,400 crore
(3) Rs. 29,800 crore (4) Rs. 35,000 crore

नीचे दिये गये आकड़ों की सहायता से सकल राष्ट्रीय उत्पाद मूल्य का अनुमान लगाइये :

- (a) उपभोक्ता वस्तुओं एवं सेवाओं का मूल्य रु. 20,000 करोड
(b) पूंजीगत वस्तुओं एवं सेवाओं का मूल्य रु. 10,000 करोड
(c) निर्यातों का मूल्य रु. 4,000 करोड
(d) आयातों का मूल्य रु. 2,600 करोड
(e) सकल घिसावट व्यय रु. 1,600 करोड

निम्नांकित में से कौन-सा सही है ?

- (1) रु. 31,400 करोड (2) रु. 32,400 करोड
(3) रु. 29,800 करोड (4) रु. 35,000 करोड

6 If the total expenditure on a commodity increases after a price increase the elasticity of demand is :

- (1) Greater than one (2) Equal to one
(3) Less than one (4) Infinite

यदि कीमत वृद्धि के उपरान्त किसी वस्तु पर किया गया सकल व्यय बढ़ता है तो मांग की लोच है -

- (1) इकाई से अधिक (2) इकाई के बराबर
(3) इकाई से कम (4) अनन्त

7 In the Cobb-Douglas production function the elasticity of substitution between factors is -

- (1) Zero (2) Equal to one
(3) Greater than one (4) Less than one

काब-डगलस उत्पादन फलन में प्रतिस्थापन की लोच संसाधनों में है -

- (1) शून्य (2) इकाई के बराबर
(3) इकाई से अधिक (4) इकाई से कम

8 Which law states that, given the taste and preferences the proportion of income spent on food stuff diminishes as income increases ?

- (1) Engel's Law (2) Gresham's Law
(3) Giffin's Law (4) Say's Law

कौन-सा नियम यह प्रतिपादित करता है कि रुचि एवं प्राथमिकता के यथावत् रहते खाद्य पदार्थों पर व्यय की गई आय का भाग आय बढ़ने के साथ-साथ गिरता है -

- (1) एन्जिल का नियम (2) गेशम का नियम
(3) गिफिन का नियम (4) से का नियम

9 In economic theory the term 'ceteris paribus' is used to indicate

- (1) Demand and supply are equal
(2) $MR = MC$
(3) Prices are increasing
(4) Other things being equal

आर्थिक सिद्धान्तों में "सिटरस पेरिबस" शब्द का प्रयोग यह बताने के लिये होता है -

- (1) मांग एवं पूर्ति बराबर है
(2) एम. आर. = एम. सी.
(3) कीमते बढ़ रही है
(4) अन्य बातें यथावत हैं

10 Inflationary gap arises in Keynesian employment theory -

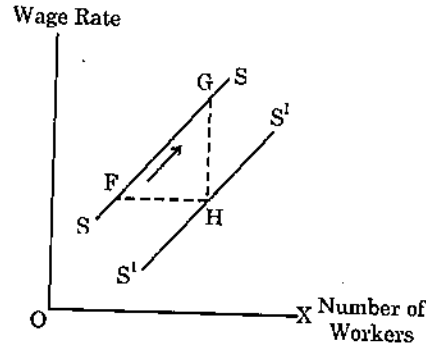
- (1) Before full employment (2) At full employment
(3) After full employment (4) None of the above

कीन्सियन रोजगार सिद्धान्त में स्फीतिकारी अन्तराल उत्पन्न होता है -

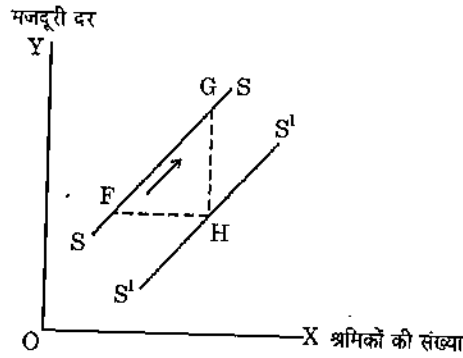
- (1) पूर्ण रोजगार से पूर्व (2) पूर्ण रोजगार पर
(3) पूर्ण रोजगार के बाद (4) उपर्युक्त में से कोई नहीं



- 11 Which of the following could explain a movement from point F to point G in the figure :



- (1) Increase in the market wage rate in the labour market
 - (2) Increase in technical knowledge
 - (3) Increase in population
 - (4) Increase in cost of training to workers in the labour market.
- निम्नांकित में से कौन-सा बिन्दु रेखाचित्र में F से G पर पहुँचने को व्यक्त करता है



- (1) श्रम बाजार में बाजार मजदूरी दर में वृद्धि
- (2) तकनीकी ज्ञान में वृद्धि
- (3) जनसंख्या में वृद्धि
- (4) श्रम बाजार में श्रमिकों की प्रशिक्षण लागत में वृद्धि

- 12 The laffer curve explains the relationship between which of the following :

- (1) Tax rates and employment
- (2) Tax rate and income
- (3) Tax rate and Tax Revenue
- (4) Tax rate and Public expenditure

लेफर वक्र निम्नांकित में से कितने के बीच सम्बन्ध को दर्शाता है -

- (1) कर दर एवं रोजगार
- (2) कर दर एवं आय
- (3) कर दर एवं कर आय
- (4) कर दर एवं सार्वजनिक व्यय



13 Which of the following are the basic components of international Monetary Fund stabilisation programme

- (1) Liberalization of foreign exchange
- (2) Devaluation of the currency
- (3) General opening-up of the economy to international trade including foreign trade
- (4) All above

अन्तर्राष्ट्रीय मुद्राकोष के स्थिरीकरण कार्यक्रम के मूल्य बिन्दू है -

- (1) विदेशी विनिमय का उदारीकरण
- (2) मुद्रा का अवमूल्यन
- (3) अन्तर्राष्ट्रीय व्यापार में विदेशी व्यापार सहित अर्थव्यवस्था में सामान्य खुलापन लाना
- (4) उपर्युक्त सभी

14 Match List

Economist	Concept / Theory
A Ragner Nurkse	1. Backwash Effects
B Rosenstein Rodan	2. Theory of unbalanced growth
C Gunnar Myrdal	3. The big push theory
D Hirschman	4. Theory of balanced growth

Correct combination is :

Code :

	A	B	C	D
(1)	4	3	1	2
(2)	3	4	2	1
(3)	2	3	1	4
(4)	1	2	3	4

मिलान कीजिए :

अर्थशास्त्री	अवधारणा / सिद्धान्त
A रेगनर नर्कसे	1. बेकवाश प्रभाव
B रोजस्टीन रोदान	2. असंतुलित विकास का सिद्धान्त
C गुनार मिर्डल	3. बड़ा धक्का सिद्धान्त
D हर्षमैन	4. संतुलित विकास का सिद्धान्त

कोड :

सहीक्रम

	A	B	C	D
(1)	4	3	1	2
(2)	3	4	2	1
(3)	2	3	1	4
(4)	1	2	3	4



- 15 Match List - I (property of a plan) with List - II (model used) and select the correct answer using the codes given below the list :

List - I

(Property of a plan)

- A Feasibility
B Consistency
C Optimality

List - II

(Model used)

1. Input - output
2. Linear Programming
3. Harrod - Domer type

Correct combination is :

Code :

- | | A | B | C |
|-----|---|---|---|
| (1) | 1 | 2 | 3 |
| (2) | 3 | 1 | 2 |
| (3) | 2 | 3 | 1 |
| (4) | 1 | 3 | 2 |

मिलान सूची - I (योजना की विशेषता) को मिलान सूची - II (प्रयुक्त माडल) के साथ रखकर सही विकल्प का चुनाव नीचे दिये गये कोड सूची में से कीजिए ।

सूची - I

(योजना की विशेषता)

- A उपयुक्तता
B संगतता
C अनुकूलतम

सूची - II

(प्रयुक्त मॉडल)

1. आदा-प्रदा माडल
2. लीनियर प्रोग्रामिंग
3. हेराड - डोमर माडल

कोड :

सहीक्रम

- | | A | B | C |
|-----|---|---|---|
| (1) | 1 | 2 | 3 |
| (2) | 3 | 1 | 2 |
| (3) | 2 | 3 | 1 |
| (4) | 1 | 3 | 2 |

- 16 Which of the following institutions providing finance to the industrial sector was set up in India, first ?

- (1) Industrial credit and investment corporation of India
(2) Industrial Finance corporation
(3) Industrial Development Bank of India
(4) Reserve Bank of India

औद्योगिक क्षेत्र को वित्त उपलब्ध कराने हेतु निम्नांकित में से कौन-सी संस्था की स्थापना भारत में सबसे पहले की गयी -

- (1) भारतीय औद्योगिक ऋण एवं विनियोग निगम
(2) औद्योगिक वित्त निगम
(3) भारतीय औद्योगिक विकास बैंक
(4) भारतीय रिजर्व बैंक

17 WTO headquarter is located at

- (1) Geneva (2) Paris
(3) Washington D.C. (4) Hague

डब्ल्यू. टी. ओ. का मुख्यालय स्थित है -

- (1) जेनेवा (2) पेरिस
(3) वाशिंगटन डी. सी. (4) हेग

18 The Headquarter of IMF is situated at

- (1) New York (2) Tokyo
(3) Washington D.C. (4) New Delhi

आई. एम. एफ का मुख्यालय स्थित है -

- (1) न्यूयॉर्क (2) टोक्यो
(3) वाशिंगटन डी. सी. (4) नई दिल्ली

19 Which economist first suggested imposition of expenditure tax ?

- (1) J. R. Hicks (2) Dalton
(3) N. Kaldor (4) Samuelson

व्यय कर लगाने का सबसे पहले सुझाव किस अर्थशास्त्री ने दिया था ?

- (1) जे. आर. हिक्स (2) डाल्टन
(3) एन काल्डोर (4) सेम्युल्सन

20 If Median and mode of a set of observation are 20.6 and 26 respectively then what is the value of mean of the observation ?

- (1) 16 (2) 17.9
(3) 18.4 (4) 19

यदि एक अवलोकित समूह का मध्यक एवं बहुलक क्रमशः 20.6 एवं 26 है तो उस अवलोकित समूह का माध्य क्या होगा ?

- (1) 16 (2) 17.9
(3) 18.4 (4) 19

21 Lorenz curve enables one to study which of the following ?

- (1) Average (2) Dispersion
(3) Correlation (4) Tax Rate

निम्नांकित में से किसके अध्ययन हेतु लारेन्ज वक्र का उपयोग होता है ?

- (1) औसत (2) अपकिरण
(3) सहसम्बन्ध (4) कर दर



- 22 Which of the following is the basis of the Ricardian Theory of comparative costs.
- (1) Supply and Demand Theory (2) Factor endowment
 (3) Labour Theory of value (4) Marginal utility Theory
- रिकार्डो के तुलनात्मक लागत सिद्धान्त का आधार निम्नांकित में से कौन-सा है ?
- (1) मांग एवं पूर्ति सिद्धान्त (2) संसाधन उपलब्धता
 (3) मूल्य का श्रम सिद्धान्त (4) सीमान्त उपयोगिता सिद्धान्त
- 23 Fisher's ideal index number satisfies which one of the following tests ?
- (1) Time Reversal Test
 (2) Factor Reversal Test
 (3) Both Time and factor Reversal Tests
 (4) Chi-Square Test
- निम्नांकित परीक्षणों में से कौन-सा परीक्षण फिशर का आदर्श सूचकांक पूरा करता है ?
- (1) समय उत्क्राम्यता परीक्षण
 (2) साधन उत्क्राम्यता परीक्षण
 (3) दोनों समय एवं साधन उत्क्राम्यता परीक्षण
 (4) कोई वर्ग परीक्षण
- 24 Coefficient of correlation is independent of which of the following ?
- (1) Change of origin (2) Change of scale
 (3) Change in parameters (4) Change in origin and scale both
- सहसम्बन्ध गुणांक निम्नांकित में से किससे स्वतंत्र है ?
- (1) मूल बिन्दु परिवर्तन (2) पैमाना परिवर्तन
 (3) मापक परिवर्तन (4) दोनो मूल बिन्दु एवं पैमाना परिवर्तन
- 25 Firms in perfect competition faces -
- (1) perfectly elastic demand curve
 (2) perfectly elastic supply curve
 (3) perfectly inelastic demand curve
 (4) perfectly inelastic supply curve
- पूर्ण प्रतियोगिता फर्म के सम्मुख होता है -
- (1) पूर्णतया लोचदार मांगवक्र (2) पूर्णतया लोचदार पूर्तिवक्र
 (3) पूर्णतया बेलोचदार मांगवक्र (4) पूर्णतया बेलोचदार पूर्तिवक्र

26 In perfect competition :

- (1) Price equals MR
- (2) Price equals AVC
- (3) Fixed cost equals variable cost
- (4) Price equals total cost

पूर्ण प्रतियोगिता में -

- (1) कीमत एवं एम.आर. बराबर होते हैं
- (2) कीमत AVC के बराबर होती है
- (3) स्थिर लागत एवं परिवर्तनशील लागत बराबर होते हैं
- (4) कीमत एवं कुल लागत बराबर होती है

27 What does an increase in the ratio of revenue deficit to gross fiscal deficit indicate ?

- (1) An increase in investment
 - (2) An increase in imports
 - (3) An increase in foreign direct investment
 - (4) An increase in utilisation of borrowed funds for revenue purposes
- राजस्व घाटा एवं सकल राजकोषीय घाटे का बढ़ता अनुपात क्या प्रदर्शित करता है ?

- (1) विनियोग में वृद्धि
- (2) आयतों में वृद्धि
- (3) प्रत्यक्ष विदेशी निवेश में वृद्धि
- (4) राजस्व व्यय की पूर्ति हेतु ऋणकोष के उपयोग में वृद्धि

28 If in a year, the gross fiscal deficit of government is Rs. 6,00,000 crores, revenue deficit is Rs. 2,50,000 crore and interest payment are Rs. 1,40,000 crore. The primary deficit is -

- (1) Rs. 4,60,000 crore
- (2) Rs. 4,50,000 crore
- (3) Rs. 3,90,000 crore
- (4) Rs. 2,10,000 crore

किसी वर्ष में यदि सकल राजकोषीय घाटा रु. 6,00,000 करोड़, राजस्व घाटा रु. 2,50,000 करोड़ ब्याज भुगतान रु. 1,40,000 करोड़ है तो प्राथमिक घाटा होगा -

- (1) रु. 4,60,000 करोड़
- (2) रु. 4,50,000 करोड़
- (3) रु. 3,90,000 करोड़
- (4) रु. 2,10,000 करोड़



- 29 Which one of the following statement is correct ? The leontief paradox makes
- (1) a critical analysis of Haberler theory of opportunity cost
 - (2) an empirical study of factor price equalisation theory of samuelson
 - (3) an empirical testing of Mills theory of reciprocal demand
 - (4) an empirical testing of Heckscher - Ohlin theory of international trade

कौन-सा वक्तव्य सही है? लियोन्टिफ विरोधाभास करता है -

- (1) हेबरलर के अवसर लागत सिद्धान्त का आलोचनात्मक परीक्षण
- (2) सेम्यूलसन के साधन कीमत समानीकरण सिद्धान्त का आनुभाविक अध्ययन
- (3) मिल के व्युत्क्रम मांग के सिद्धान्त का आनुभाविक परीक्षण
- (4) अन्तर्राष्ट्रीय व्यापार के हेक्शचर - ओहलिन सिद्धान्त का आनुभाविक परीक्षण

- 30 The Heckscher-Ohlin theory of International Trade is the difference in :

- (1) Cost of production
- (2) Factor endowment
- (3) Technology
- (4) Transportation cost

हेक्शचर - ओहलिन का अन्तर्राष्ट्रीय व्यापार सिद्धान्त का कारण निम्नांकित भिन्नता है -

- (1) उत्पादन लागत
- (2) साधन प्रचुरता
- (3) तकनीकी
- (4) परिवहन लागत

- 31 Which one of the following is best characterizes the Bretton Woods system of exchange Rates ?

- (1) Adjustable fixed exchange rates
- (2) Fixed exchange rates
- (3) Adjustable pegged exchange rates
- (4) Pegged exchange rates

ब्रिटेन वुड्स विनिमय दर को निम्नांकित में से कौन सही प्रदर्शित करता है

- (1) समन्वयकारी स्थिर विनिमय दर
- (2) स्थिर विनिमय दर
- (3) समन्वयकारी पेग विनिमय दर
- (4) पेग विनिमय दर

- 32 Which of the following is the highest form of economic integration among different nations ?

- (1) Custom Union
- (2) Free Trade Area
- (3) Economic Union
- (4) Common Market

विभिन्न राष्ट्रों में सर्वाधिक उच्च आर्थिक समन्वय का उदाहरण निम्नांकित में से कौन-सा है?

- (1) चुंगीसंघ
- (2) मुक्त व्यापार क्षेत्र
- (3) आर्थिक संघ
- (4) साझा बाजार



- 33 The Mahalanobis Model was developed for which of the following plans ?
 (1) First Five Year Plan (2) Second Five Year Plan
 (3) Third Five Year Plan (4) Fourth Five Year Plan
 महालनोबिस माडल का उपयोग निम्नांकित में से किस योजना हेतु किया गया था ?
 (1) प्रथम पंचवर्षीय योजना (2) द्वितीय पंचवर्षीय योजना
 (3) तृतीय पंचवर्षीय योजना (4) चतुर्थ पंचवर्षीय योजना
- 34 Who developed a model which explains the paradox pertaining to the rural urban migration in the context of rising urban employment ?
 (1) Lewis (2) Todaro
 (3) Solow (4) Robinson
 बढ़ते हुए शहरी रोजगार के संदर्भ में ग्रामीण शहरी प्रवास से सम्बन्धित विरोधाभास का माडल किसने प्रतिपादित किया था ?
 (1) लेविस (2) टोडोरो
 (3) सोलो (4) रोबिन्सन
- 35 'Golden Hand Shake' Scheme refer to
 (1) Agricultural policy (2) Industrial Policy
 (3) Export Policy (4) Exit Policy
 गोल्डन हैंडशेक योजना किसकी ओर इंगित करती है ?
 (1) कृषि नीति (2) औद्योगिक नीति
 (3) निर्यात नीति (4) एक्जिट नीति
- 36 Most Favoured Nations (MFN) clause under GATT implies
 (1) Most favour to some countries
 (2) No Favour to some countries
 (3) Most favour to all countries
 (4) No favour to any country
 सर्वाधिक पक्षकारी राष्ट्र (MFN) धारा गैट में व्यक्त करती है -
 (1) कुछ राष्ट्रों को अधिक सुविधा (2) कुछ राष्ट्रों को कोई सुविधा नहीं
 (3) सभी राष्ट्रों को अधिक सुविधा (4) सभी राष्ट्रों को कोई सुविधा नहीं
- 37 Voting rights in the IMF are given on the basis of
 (1) Democratic principle
 (2) Proportion to quota allocated to countries
 (3) Proportion to contribution given by each country
 (4) None of above
 आईएमएफ में वोट देने के अधिकार का आधार है -
 (1) प्रजातांत्रिक सिद्धान्त
 (2) विभिन्न देशों को आवंटित कोटे के आधार पर
 (3) प्रत्येक देश द्वारा दिये गये अंशदान के आधार पर
 (4) उपर्युक्त में से कोई नहीं



38 EURO come into circulation since, 1st January

- (1) 1996 (2) 1997
(3) 1998 (4) 1999

EURO 1 जनवरी को किस वर्ष चलन में आया :

- (1) 1996 (2) 1997
(3) 1998 (4) 1999

39 Open market operation means :

- (1) Borrowing by scheduled banks from RBI
(2) Purchase and sale of Government securities by RBI
(3) Lending to agricultural sector by NABARD
(4) Lending on soft terms by Banks

खुले बाजार की क्रियाओं का आशय है -

- (1) RBI से अनुसूचित बैंको द्वारा लिया जाने वाला ऋण
(2) RBI द्वारा सरकारी प्रतिभूतियों का क्रय एवं विक्रय
(3) नाबार्ड द्वारा कृषिक्षेत्र को दिया गया ऋण
(4) बैंकों द्वारा आसान शर्तों पर ऋण

40 Hedging is related to

- (1) Commodity market (2) Labour market
(3) Foreign exchange transactions (4) Home loans

हेजिंग का सम्बन्ध है -

- (1) वस्तु बाजार से (2) श्रम बाजार से
(3) विदेशी विनिमय लेन-देन से (4) गृह ऋण से

41 If the Government Budget is not passed before 31st March then Government expenditure is undertaken by passing

- (1) Vote on Account (2) Supplementary demand
(3) Vote on credit (4) None of the above

यदि 31 मार्च से पूर्व सरकार का बजट पारित न हो तो सरकारी व्यय पूरा करने हेतु पास किया जाता है -

- (1) लेखानुदान (2) पूरक मांग
(3) ऋण अनुदान (4) उपर्युक्त में से कोई नहीं

42 Which one of the following will result in crowding out effect for private credit market ?

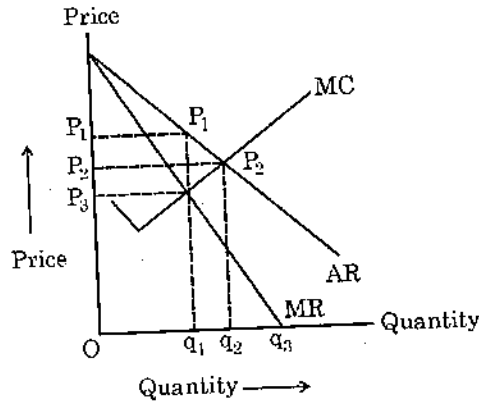
- (1) Low level of government borrowing
(2) Low rate of interest
(3) Large repayment of Government loan
(4) Large borrowing by the Government

निजी साख बाजार में बाह्य धकेले जाने का कारण निम्नांकित में से कौन-सा है ?

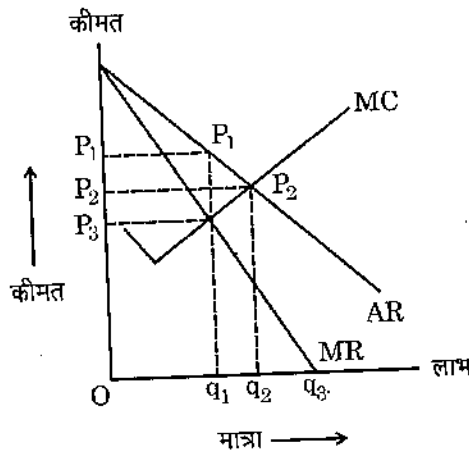
- (1) सरकार द्वारा कम ऋण लेना
(2) नीची ब्याज दर
(3) सरकार द्वारा बड़ी मात्रा में ऋण लौटाना
(4) सरकार द्वारा भारी मात्रा में ऋण लेना



43 The Firm has maximum profit at the production and price -



- (1) $P_1 q_1$ (2) $P_2 q_2$
 (3) $P_1 q_3$ (4) $P_3 q_1$
 फर्म के लिए उत्पादन एवं अधिकतम लाभ एवं कीमत का स्तर है -



- (1) $P_1 q_1$ (2) $P_2 q_2$
 (3) $P_1 q_3$ (4) $P_3 q_1$

44 Which one of the following sectors is related to Blue Revolution in Agricultural sector

- (1) Horticulture (2) Acqua culture
 (3) Polletry (4) Dairy

निम्नांकित में से कृषि का कौन-सा क्षेत्र नीली क्रान्ति से सम्बन्धित है -

- (1) बागवानी (2) एक्वा कल्चर
 (3) मुर्गीपालन (4) डेरी

45 Soft currency means whose supply (S) and demand (D) is

- (1) $S < D$ in the international market
 (2) $S = D$ in the international market
 (3) $S > D$ in the international market
 (4) None of the above

नरम मुद्रा का आशय है -

- (1) अन्तरराष्ट्रीय बाजार में $S < D$ (2) अन्तरराष्ट्रीय बाजार में $S = D$
 (3) अन्तरराष्ट्रीय बाजार में $S > D$ (4) उपर्युक्त में से कोई नहीं



- 46 Narsimham commottee is related to :
- | | |
|--------------------------|-------------------------|
| (1) Foreign Trade sector | (2) Agricultural sector |
| (3) Banking sector | (4) Education sector |
- नरसिंहम कमेटी सम्बन्धित है -
- | | |
|----------------------------|--------------------|
| (1) विदेशी व्यापार क्षेत्र | (2) कृषि क्षेत्र |
| (3) बैंकिंग क्षेत्र | (4) शिक्षा क्षेत्र |
- 47 Zero-based Budgeting lays emphasis on
- | |
|--|
| (1) Unlimited Deficit financing |
| (2) Preparing the budget neglecting history of expenditure |
| (3) Both (1) and (2) above |
| (4) None of the above |
- शून्य आधारित बजट जोर देता है -
- | |
|--|
| (1) असीमित घाटे की वित्त व्यवस्था पर |
| (2) व्यय के इतिहास से अलग हटकर बजट बनाना |
| (3) उपर्युक्त (1) एवं (2) दोनों |
| (4) उपर्युक्त में से कोई नहीं |
- 48 Rational Expectation Theory is associated with
- | | |
|-----------|-------------------|
| (1) Hicks | (2) Romer |
| (3) Lucas | (4) None of above |
- विवेकपूर्ण प्रत्याशा सिद्धान्त जुड़ा है -
- | | |
|-------------|-------------------------------|
| (1) हिक्स | (2) रोमर |
| (3) ल्यूकास | (4) उपर्युक्त में से कोई नहीं |
- 49 Nobel prize in economics is awarded by
- | | |
|---------|---------------------|
| (1) UNO | (2) Swedish Academy |
| (3) IMF | (4) America |
- अर्थशास्त्र में नोबल पुरस्कार द्वारा प्रदान किया जाता है
- | | |
|-----------------|--------------------|
| (1) यू. एन. ओ. | (2) स्वीडिश अकादमी |
| (3) आई. एम. एफ. | (4) अमेरिका |
- 50 Which one of the following is correct for a normal distribution ?
- | |
|---|
| (1) Standard deviation is maximum |
| (2) Quartire deviation is maximum |
| (3) Mean deviation is maximum |
| (4) Quartile deviation, standard deviation and mean deviation are equal |
- एक सामान्य बंटन के लिए निम्नांकित में से कौन-सा कथन सत्य है -
- | |
|--|
| (1) प्रमाप विचलन अधिकतम होता है |
| (2) चतुर्थांक विचलन अधिकतम होता है |
| (3) माध्य विचलन अधिकतम होता है |
| (4) प्रमाप विचलन, चतुर्थांक विचलन एवं माध्य विचलन बराबर होते हैं |



आ आ आ आ

SPACE FOR ROUGH WORK / कच्चे काम के लिये जगह

